

判断压轴点睛

公考通网校

www.chinaexam.org



最新最全公考资讯



听课刷题专用 APP

定义判断易错点

一、没有碎片化比较——碎片化点对点比较

解题技巧：要件双碎片化

定义：_____。

A. _____。

B. _____。

C. _____。

D. _____。

定义：_____。

A. _____。

B. _____。

C. _____。

D. _____。



二、纠结项处理不当——带回对比原定义的用词吻合度

1. 疑离是变通运用了选择疑问句形成的一种修辞方法。它用两项或多项疑问句并列发问，但不要求读者从中选择一项，而是让读者发疑，待把语言前后连贯，便可疑念全消。

根据上述定义，下列运用了疑离的修辞方法的是（ ）

A. 水几重呵，山几重？水绕山环桂林城……是山城呵，是水城？都在青山绿水中……

B. 哪一颗星没有光？哪一朵花没有香？大海啊，哪一次我的思潮里没有你波涛的清响？

C. 我走过的路很多，哪见过像这样荆棘丛生的路呢？我走过的路很多，哪见过像这样崎岖难行的路呢？没有。

D. 啊，黄继光、刘胡兰……不都是党亲手培育的，共产主义甘霖灌溉出来的鲜花吗？人间还有什么花朵能同他们争妍呢？

2. 注意分为似注意和似不注意两种。似注意是指表面上注意某些事物，但实际上心里却想着其他事物，似不注意是指貌似不注意一事物而实际上心里却十分注意这一事物。

根据上述定义，下列属于似不注意的是（ ）

A. 第一次来到海边的人们往往容易不自觉地被波澜壮阔的景色所深深吸引

B. 学生们正在教室上课，突然从外面进来一个人，学生们不由自主地看向他

C. 临近午餐时间，会议还没有结束，很多参会者虽然表面在认真倾听会议内容，心里却在想着午餐吃什么

D. 侦查员在人群中发现了犯罪嫌疑人，为了不打草惊蛇，假装没看见，然后悄悄靠近，出其不意将其抓获

3. O2O 模式即 Online To Offline，是指将线下的商务机会与互联网结合，让互联网成为线下交易的前

台，线上平台为消费者提供消费指南、优惠信息、便利服务和分享平台，而线下商户则专注于提供服务。

根据上述定义，以下属于 O2O 模式的是（ ）

- A. 乘客致电出租车热线预定出租车，可在指定的时间地点享受车接车送
- B. 互联网上的跨洋英语聊天室，使中国学生能直接跟外国友人用英语交流
- C. 研究员利用微信平台招募测试对象，根据他们在线填写问卷的结果进行线下访谈
- D. 家政服务公司利用手机软件推销家政服务，用户通过手机预约之后，工作人员到家服务

4. 一个国家生产某种产品的成本比另一个国家低，那么，该国就在这种商品的生产上与另一个国家相比具有比较优势。

根据上述定义，以下判断正确的是（ ）

A. 作为佛教圣地的泰国，宗教文化旅游资源丰富，旅游产业相当发达，相对周边国家来说，泰国具有旅游产品的比较优势

B. 甲国人口众多，廉价的劳动力吸引了乙国大多数手机制造公司到甲国开辟生产线，相比乙国，甲国在手机生产上具有比较优势

C. 某欧洲国家因自然风光优美，成为亚洲众多电影制片公司的外景拍摄地，相对亚洲国家来说，这个欧洲国家具有电影生产的比较优势

D. 甲国具有丰富的石油资源，但天然气资源匮乏，乙国进口甲国石油的同时，向甲国出口天然气，相比甲国，乙国具有能源的比较优势

5. 关联营销是指商家通过资源整合寻找产品、品牌等所要营销内容的关联性，来实现深层次的多面引导。

根据上述定义，下列没有反映关联营销的是（ ）

A. 某体育用品商店的主推商品为泳衣，在泳衣货品区的旁边还配有防晒霜、太阳镜和遮阳帽进行销售

B. 某电视厂商通过构建体验空间，让顾客感受液晶屏幕放映影片带来的视觉体验，从而促进电视机的销量

C. 某母婴网站根据顾客购买的儿童纸尿裤推测孩子的年龄，从而在购物页面推荐更多这一年龄段孩子需要使用的产品

D. 某服装公司最为畅销的产品为某种图案的圆领 T 恤，与此同时公司还生产了该图案的 V 领 T 恤和立领 T 恤，销量也很好

6. 连带责任保证是债的担保的一种，它是指保证人与债权人约定，债务人在债务履行期限届满没有履行债务的，债权人既可以要求债务人履行债务，也可以要求保证人在其保证范围内承担债务。

根据上述定义，下列属于连带责任保证的是（ ）

A. 甲欠乙 100 万元货款，甲找来丙，三方约定，若三个月内甲不能偿还货款，由丙代乙主张债权

B. 甲欠乙 100 万元货款，甲找来丙，三方约定，若三个月内甲不能偿还货款，乙有权要求丙偿还全部货

款

C. 甲欠乙 100 万元货款，甲找来尚欠自己 100 万元债务的丙，三方约定，若到期甲不能偿还货款，由丙代为偿还

D. 甲欠乙 100 万元货款，甲找来丙，将丙收藏的一副名画交给乙，约定若在三个月内甲不能偿还货款，乙有权取得该画的所有权

7. 义务性规范要求人们以某种方式必须作出或不作出某种行为。授权性规范表明人们有作出或不作出某种行为的权利。二者的关系是：当某种行为被确立为义务时，这种行为也同时也被确立为权利；否定某种行为是义务，不意味着否定了这种行为是权利；当某种行为被确立为权利时，不意味着这种行为是义务；否定某种行为是权利，也即否定了某种行为是义务。根据上述定义，下列说法错误的是（ ）

- A. 若规定“公民有选举的权利”，意味着“公民有选举的义务”
- B. 若规定“公民没有生育的义务”，不意味着“公民没有生育的权利”
- C. 若规定“本科生必须修读一门外语课”时，意味着“本科生有权利修读一门外语课”
- D. 若规定“公民没有干涉他人婚姻自由的权利”，意味着“公民没有干涉他人婚姻自由的义务”

8. 类别化是指个体对自身或他人在社会中所处位置的感知和判断，这种感知和判断不仅基于现实社会中社会体制的不同分类标准，也基于自身与他人的社会比较过程。类别化分为社会类别化和自我类别化。社会类别化是个体基于共享的相似性把他人分为不同群体类别的主观心理过程。自我类别化指个体从独立个体到群体成员的过程是通过类别化而得以实现的，是通过“去个性化”实现对群体的归属和成员身份的定位。

根据上述定义，下列属于自我类别化的是（ ）

- A. 只要每个人的素质提高了，我们整个国民的素质也就自然提高了，因此，重要的是首先做好自己
- B. 小明打算应聘公司某职位，而其父母则认为他更适合做公务员
- C. 同学们都说小倩长得像明星，做主播肯定有前途
- D. 王医生常常为自己所从事的职业感到无比自豪

9. 员工绿色行为是指组织中员工展现的一系列旨在保护生态环境、降低个人活动对自然环境造成负面影响的行为，这些行为是组织正式绿色管理计划的重要补充，能提高组织绿色管理措施的效率，最终有利于环境的可持续发展。

根据上述定义，下列属于员工绿色行为的是（ ）

- A. 部门经理经常利用废纸打印一些非正式文件
- B. 公司员工自觉遵守公司关于垃圾分类的规定
- C. 办公室的一位女员工宁愿忍受高温也不愿开冷气，她认为这样更健康
- D. 公司保洁员经常把垃圾箱内的废塑料瓶收集起来，下班时顺便带回家

10. 和谐管理是组织为了达到其目标，在变动的环境中，围绕社会、市场、政府和职工等和谐主题要素，

以优化和不确定性消减为和谐手段提供问题解决方案的实践活动。

根据上述定义，下列属于和谐管理的是（ ）

- A. 甲公司为在竞标政府项目中获得优势，专门成立公关部门与政府搞关系
- B. 丙企业为了治理因生产所造成的环境污染，成立专门基金进行长效维护
- C. 乙公司为了让产品赢得市场，孤注一掷花费巨资请明星代言
- D. 丁公司为了强化公司的“狼性”文化，经常让员工超时加班

类比推理易错点

一、造句不扣常规考点，只凭随心——扣常规考点造句

一级考点：题干词项关系		二级考点：题干一级关系之外的其他关系或者词项与选项的共性	
集合关系	交叉关系		词性、色彩、同范围、同主体、主被动、虚实等
	包含关系（构成关系）	主要部分（特殊部分）	
	并列（反对）关系		
	矛盾关系		
	同一关系	简称、古称、书面语、口语、音译词、敬语等	
	全异关系	单体名词和集合名词	
逻辑关系	对应关系	单一关系、多重关系	
	条件关系	充分条件、必要条件	
	因果关系	或然结果、必然结果	
	事件先后关系	必然性、非必然性	
语法关系	近（反）义词（词义递进）	同范围、词性、色彩	
	主谓关系、动宾关系、偏正结构等		

- C. 主持人：晚会
D. 钢琴家：演奏
20. 摇曳：晃动
- A. 自满：自谦
B. 翻天覆地：一成不变
- C. 悲痛：欲绝
D. 顺风转舵：见机行事

图形推理易错点

一、想不到——背

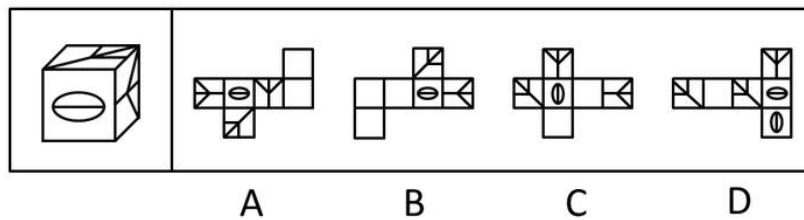
二、看不出——同考点和异考点比较观察

三、觉得找到规律了，做对了，但是结果不对——常规考点、考点特征、常规路径不熟。


先整体后部分；先常规后特殊；先旧考点后新考点；先单考点后复合考点

四、复合考点

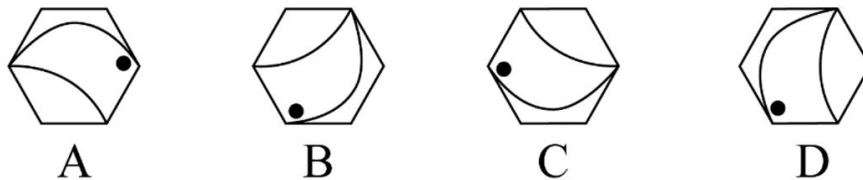
21. 右边哪一项不可能是左边正方体纸盒的展开图（ ）



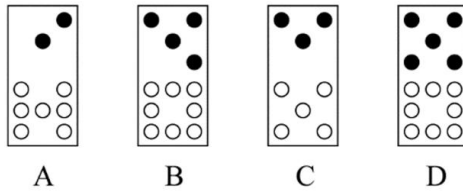
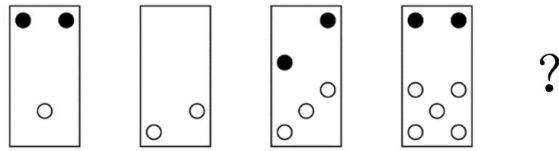
22. 从下列四个图形中，找出一个和其他三个具有不同规律的图形（ ）



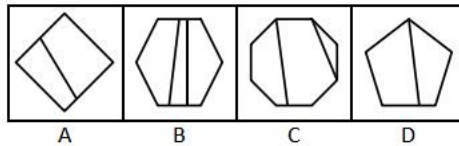
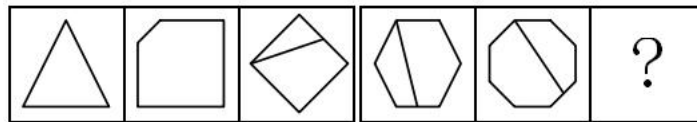
23. 从下列四个图形中，找出一个和其他三个具有不同规律的图形（ ）



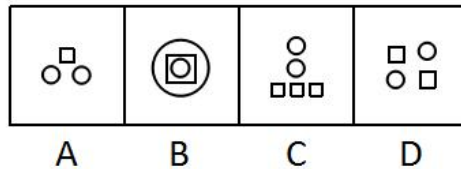
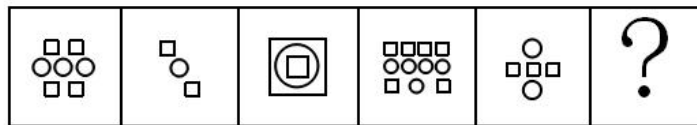
24. 从所给的四个选项中，选择最合适的一个填入问号处，使之呈现一定的规律性（ ）



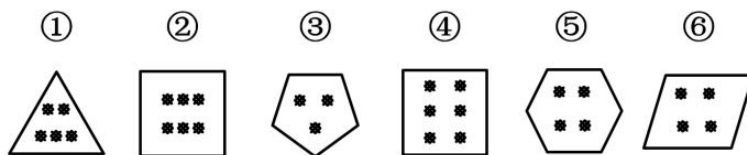
25. 从所给的四个选项中，选择最合适的一个填入问号处，使之呈现一定的规律性 ()



26. 下列选项中，符合所给图形的变化规律的是 ()

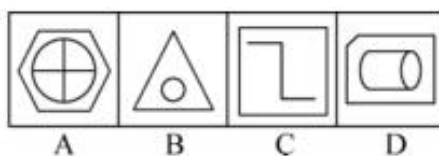


27. 把下面六个图形分为两类，使每一类图形都有各自的共同特征或规律，分类正确的一组是 ()

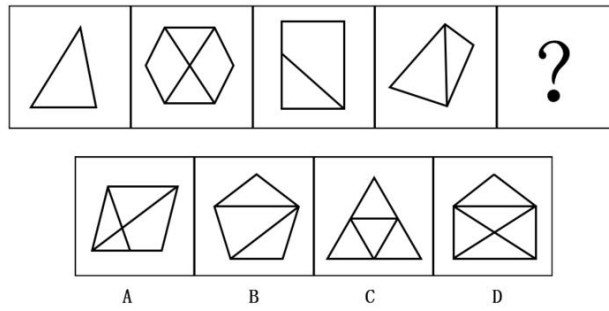


- A. ①③⑥, ②④⑤
- B. ①②③, ④⑤⑥
- C. ①②④, ③⑤⑥
- D. ①④⑤, ②③⑥

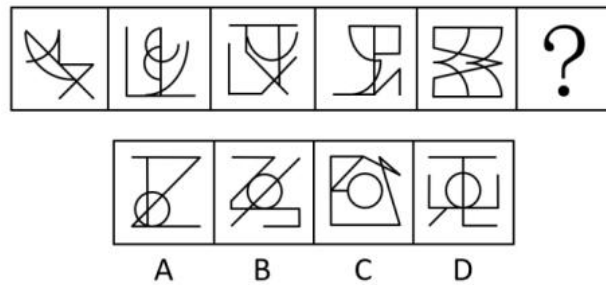
28. 从所给的四个选项中，选择最合适的一个填入问号处，使之呈现一定的规律性 ()



29. 请选择最适合的一项填入问号处，使之符合之前四个图形的变化规律（ ）



30. 从所给的四个选项中，选择最合适的一个填入问号处，使之呈现一定的规律性（ ）



逻辑判断易错点

一、理解代替规则；

二、加强削弱忽视论点论据的精确性，而自动脑补

31. 大多数老百姓反感官员讲官话套话，例如“高度重视”、“亲自过问”、“研究研究”等。如果不讲官话套话，一些官员就觉得无话可说或没有优越感。

根据以上陈述，可以得出以下哪项（ ）

- A. 有些老百姓去政府办事并不反感官员“亲自过问”
- B. 一听到官员讲“研究研究”，有些老百姓就反感
- C. 一讲“高度重视”，有些官员就会增强自身优越感
- D. 官员讲话如果滔滔不绝，一般都是在讲官话套话

32. 没有出席今晚宴会的人，要么没有被邀请，要么没有时间。

据此，可以推出（ ）

- A. 被邀请的即使有时间也不一定出席今晚宴会
- B. 有时间且被邀请的不会参加今晚宴会
- C. 没被邀请的也不一定不出席今晚宴会
- D. 被邀请的才能参加今晚的宴会

33. 巫马子对墨子说：我不能兼爱。我爱我的家人比爱我家乡的人深，爱我的双亲比爱我的家人深，爱我自己胜过爱我双亲，这是因为切近我的缘故。打我，我会痛，打别人，不会痛在我身上，所以我只会杀他人以

利于我。墨子问道：你的这种义会告诉别人吗？巫马子答道：我为什么要隐藏，我会告诉别人。墨子说：既然你这样，如果有人喜欢你的主张，那么这个人就要杀你以利于自己。如果有人不喜欢你的主张，那他也要杀你，因为他认为你是散布不祥之言的人。

由上文可推知（ ）

- A. 巫马子只能远走他乡
B. 巫马子必须承认自己的观点是错的
C. 巫马子一定要改变自己原来的观点
D. 巫马子一定会被人杀死

34. 一个动物保护组织正在设法改变人们对乌鸦的偏见。该组织认为乌鸦之所以受到人们的厌恶是因为其黑色的外表，他们指出，通过基因改造，可以让乌鸦披上洁白的外衣。

以下哪项如果为真，最能质疑该组织的看法（ ）

- A. 基因改造后，“乌鸦”就不再是乌鸦了
B. 乌鸦可以消灭害虫，它其实是人类的朋友
C. 有人认为乌鸦食腐肉是令人厌恶的原因之一
D. 黑百灵是一种通体黑色的小型鸣禽，它深受人们的喜爱

35. 在全球各地，很多地方都面临着干旱带来的灾害，而人们常常对这些灾害不知所措。近日，一些科学家们发现了一种激光。发射后能够在空气中制造水滴，使阴云增加水汽并带来降雨。他们认为这将会帮助人们决定降雨量和时间，并取代传统的人工降雨方法。

以下哪项如果为真，最能削弱上述结论（ ）

- A. 研究发现，不同波长的激光对云团的影响不一致，传统方法比激光降雨方法更容易操作
B. 一些研究认为，一个地区的降雨量主要受天气形态变化的影响，使用激光并不能随时随地实现降雨
C. 集中降雨在温度低，湿度大的环境中更易实现，在自然干旱的环境中则需要持续发射更大强度的激光
D. 人工降雨主要依靠化学物质凝结降雨，这将会对环境造成一定的破坏，但激光并不会对环境产生危害

36. 丹麦的研究团队发现，多饮用含咖啡因饮料的年轻人，胆固醇指标严重超标的比例明显超过那些不饮用含咖啡因饮料的年轻人。因此，研究团队认为饮用咖啡因将影响年轻人的身体健康。

以下哪项如果为真，将最有力质疑上述的结论（ ）

- A. 胆固醇指标是身体是否健康的指标之一
B. 常喝含咖啡因饮料的年轻人通常有暴饮暴食的饮食习惯
C. 饮食清淡的人更容易保持健康的胆固醇指标
D. 有的年轻人胆固醇超标严重，但他们从来不饮用含咖啡因的饮料

37. 一项对某市大学生运动会的调查结果似乎存在着矛盾，当参加百米决赛的运动员被问及在此次运动会上的名次时，有60%的回答者说他们的成绩位居此次比赛的前20%。

如果所有参与调查的运动员说的都是真话，那么下列哪项能对上述现象给出更合理的解释（ ）

- A. 并不是所有未回答者的名次都在百米决赛的前 20% 以外
- B. 其余 40% 的回答者百米决赛的成绩都在前 20% 之外
- C. 参加百米决赛的运动员有 80% 的人成绩不理想
- D. 百米决赛成绩较差的运动员没有参加调查

38. 一项调查结果显示：78% 的儿童中耳炎均来自二手烟家庭。研究人员表示，二手烟环境会增加空气中的不健康颗粒，其中包括尼古丁和其他有毒物质。与居住在无烟草环境的孩子相比，居住于二手烟环境的孩子患中耳炎几率更大，因此医学专家表示，父母等家人吸烟，是造成儿童罹患中耳炎的重要原因。

以下哪项如果证实，最能削弱上述论证（ ）

- A. 调查中还显示，无烟家庭的比率呈逐年上升的趋势
- B. 研究证明，二手烟家庭中儿童中耳炎的治愈率较高
- C. 门诊数据显示，儿童中耳炎就诊人数下降了 4.6%
- D. 在这次调查的人群中，只有 20% 的儿童来自无烟家庭

39. 据世界卫生组织 1995 年调查报告显示，70% 的肺癌患者有吸烟史，其中有 80% 的人吸烟的历史多于 10 年。这说明吸烟会增加人们患肺癌的危险。

以下哪项最能支持上述论断（ ）

- A. 1950~1970 年期间男性吸烟者人数增加较快，女性吸烟者也有增加
- B. 虽然各国对吸烟有害进行大力宣传，但自 50 年代以来，吸烟者所占的比例还是呈明显上升的趋势，到 90 年代，成人吸烟者达到成人数的 50%
- C. 没有吸烟史或戒烟时间超过五年的人数在 1995 年超过了人口总数的 40%
- D. 1995 年未成年吸烟者的人数也在增加，成为一个令人挠头的社会问题

40. 某市交警对该市近年汽车交通事故的统计结果显示，受重伤的司机和坐在副驾驶位上的乘客，80% 在事故发生时没有系安全带。这说明，系上安全带，就能降低司机和副驾驶座上的乘客在发生事故时受重伤的可能性。

上述推断要成立，以下各项必须为真的一项是（ ）

- A. 在被调查的所有司机和前座乘客中，20% 以上在发生事故时是系上安全带的
- B. 该市市民中，驾车或在前座乘车时习惯于系上安全带的人数，远远超过 20%
- C. 调查发现，因汽车事故受重伤者中，司机和前座乘客要比后座乘客多
- D. 大多数在该市交通警察局记录在案的汽车交通事故，都不是严重伤亡事故