

江苏省考判断真题精讲

公考通网校

www.chinaexam.org



最新最全公考资讯



听课刷题专用 APP

2020 年江苏行测 C 类

一、类比推理

1. 唇亡：齿寒

- A. 安居：乐业 B. 纲举：目张
C. 开卷：有益 D. 惩前：毖后

2. 湄公河：跨境河

- A. 黄鹤楼：吊脚楼 B. 青海湖：内陆湖
C. 英国人：西欧人 D. 中山门：凯旋门

3. 充电器：充电桩：充电

- A. 互联网：局域网：联网 B. 云计算：云服务：服务
C. 银行卡：信用卡：购物 D. 朋友圈：生活圈：社交

4. 笔：文具：写字

- A. 缸：容器：盛水 B. 钟：时间：计时
C. 草：植物：喂牛 D. 瓦：建材：砌墙

5. 暴雨：洪灾：排涝

- A. 炎热：干旱：减产 B. 假日：拥堵：疏导
C. 路滑：摔倒：骨折 D. 地震：伤亡：救助

6. 近海：靠近陆地的海域

- A. 充足：多到能满足需要 B. 三包：包修包换和包退
C. 四季：春夏秋冬的合称 D. 忙月：农事繁忙的月份

7. 粮库 之于 () 相当于 () 之于 思想

- A. 仓库——记忆 B. 粮田——认识
C. 金库——思维 D. 粮食——文章

8. () 之于 百折不挠 相当于 如愿以偿 之于 ()

- A. 一蹶不振——称心如意 B. 不屈不挠——大失所望
C. 心满意足——百折不回 D. 知难而退——事与愿违

9. !@#&@#Y#Y!@

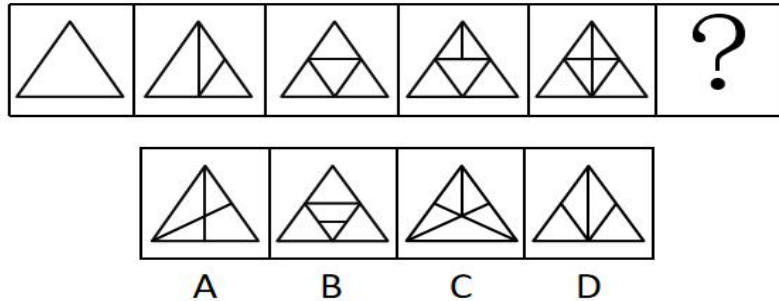
- A. %tHtMHHM%T B. +pLpL&L& + p
C. &OILI + L + &O D. 柯河江河江珂江水柯河

10. 由甲申甲甲申由甲由甲

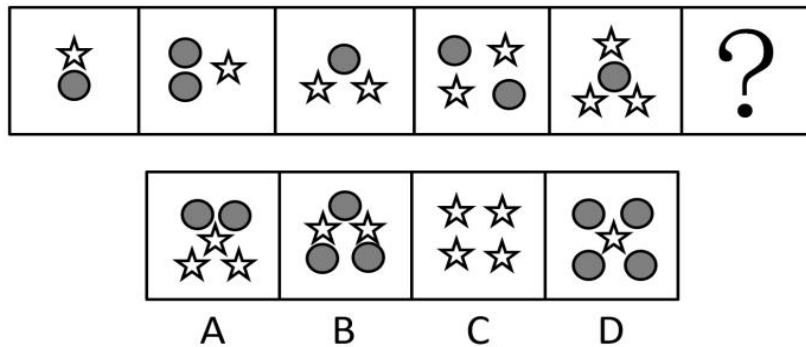
- A. 己己巳乙己巳己己己乙 B. 上下卡卞下卡土下上卞
 C. 人八六入八六人八八入 D. 土士二千士二二士土干

二、图形推理

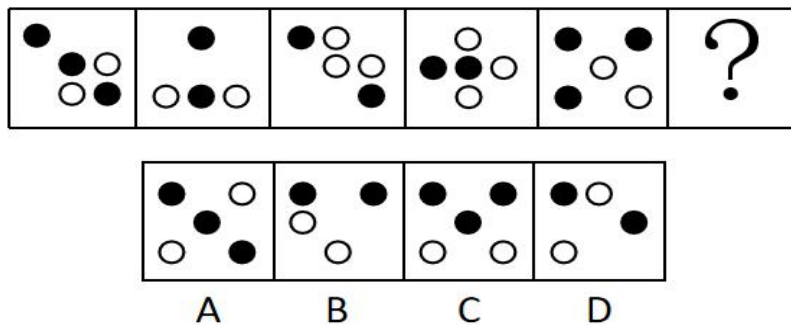
11. 请从所给的四个选项中，选出最恰当的一项填入问号处，使之呈现一定的规律性（ ）



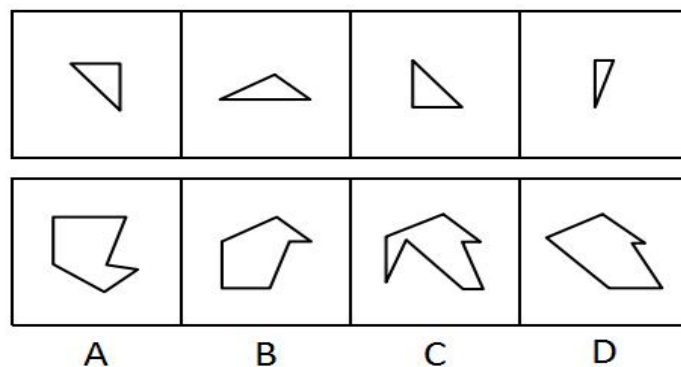
12. 请从所给的四个选项中，选出最恰当的一项填入问号处，使之呈现一定的规律性（ ）



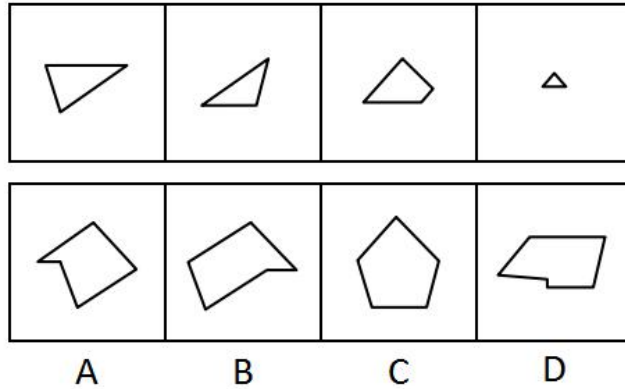
13. 请从所给的四个选项中，选出最恰当的一项填入问号处，使之呈现一定的规律性（ ）



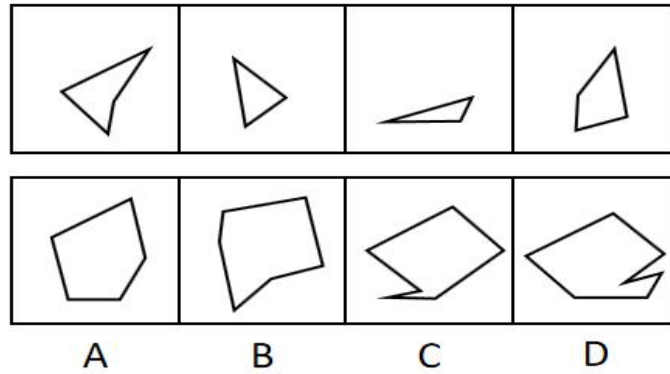
14. 下面四个图形中，只有一个是上面四个图形拼合（只能通过上、下、左、右平移）而成的，请把它找出来（ ）



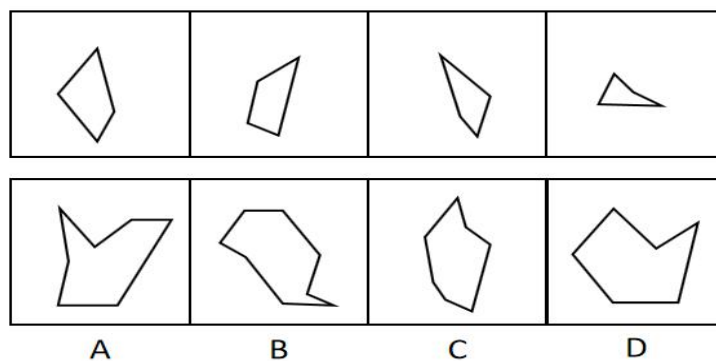
15. 下面四个图形中，只有一个是上面四个图形拼合（只能通过上、下、左、右平移）而成的，请把它找出来（ ）



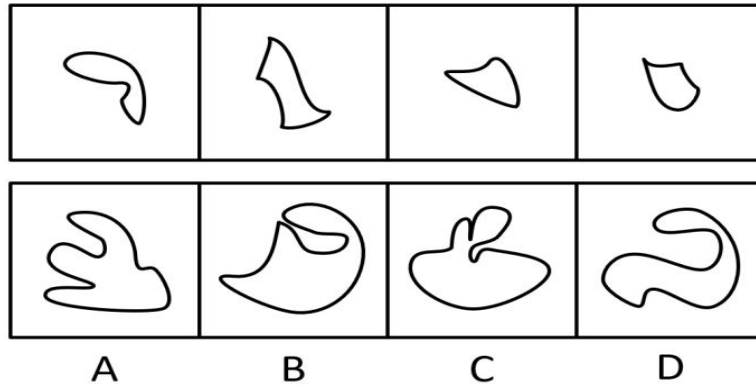
16. 下面四个图形中，只有一个是上面四个图形拼合（只能通过上、下、左、右平移）而成的，请把它找出来（ ）



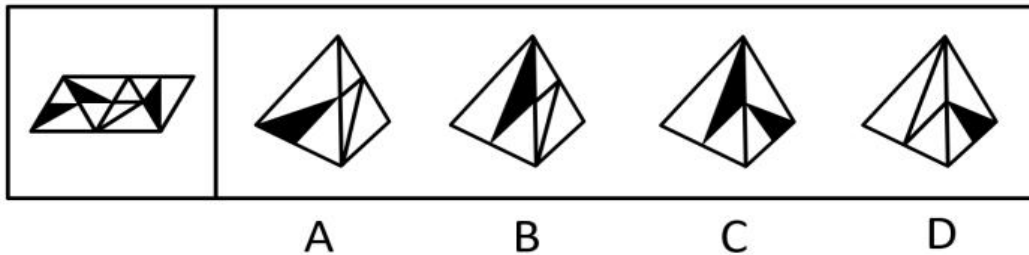
17. 下面四个图形中，只有一个是上面四个图形拼合（只能通过上、下、左、右平移）而成的，请把它找出来（ ）



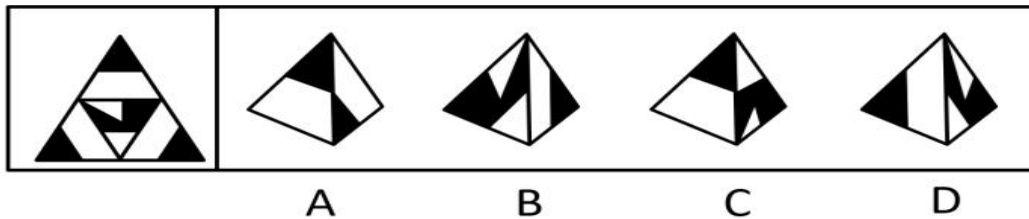
18. 下面四个图形中，只有一个是上面四个图形拼合（只能通过上、下、左、右平移）而成的，请把它找出来（ ）



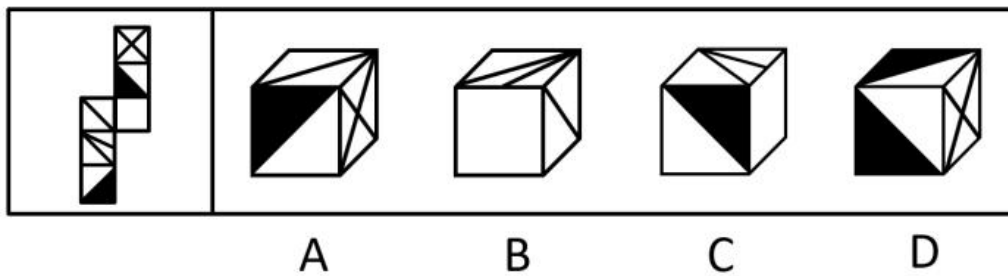
19. 左边给定的是纸盒外表面的展开图，右边哪一项能由它折叠而成？请把它找出来（ ）



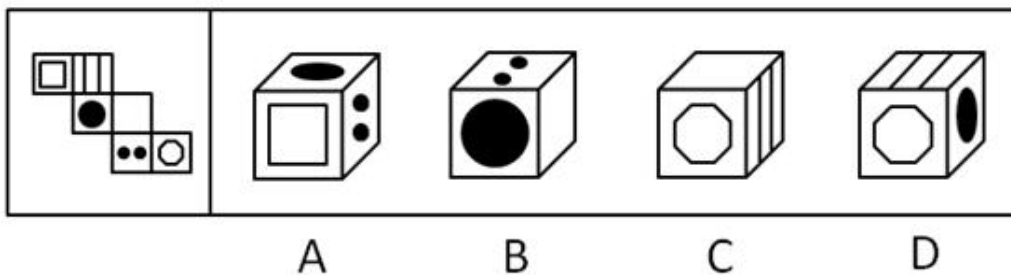
20. 左边给定的是纸盒外表面的展开图，右边哪一项能由它折叠而成？请把它找出来（ ）



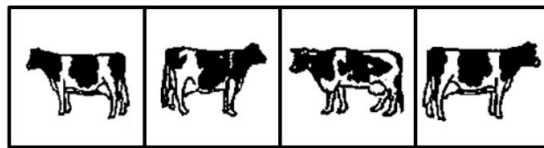

21. 左边给定的是纸盒外表面的展开图，右边哪一项能由它折叠而成？请把它找出来（ ）



22. 左边给定的是纸盒外表面的展开图，右边哪一项能由它折叠而成？请把它找出来（ ）

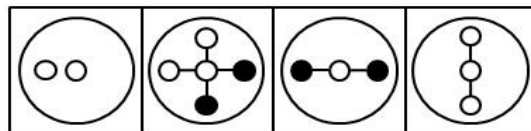
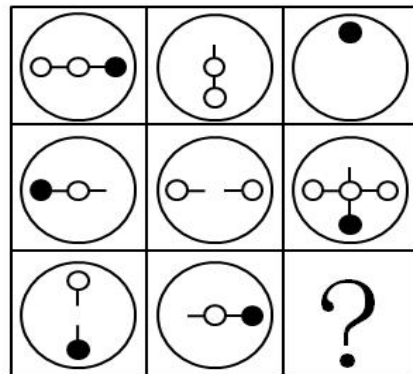


23. 请从所给的四个选项中，选出最恰当的一项填入问号处，使之呈现一定的规律性（ ）




A B C D

24. 请从所给的四个选项中, 选出最恰当的一项填入问号处, 使之呈现一定的规律性 ()



A B C D

25. 左边为给定的立体, 从任意角度剖开, 右边哪一项不可能是它的截面图 ()



A B C D

三、逻辑判断

26. 党内存在的很多问题都同政治问题相关联。不从政治上认识问题、解决问题, 就会陷入头痛医头、脚痛医脚的被动局面, 就无法从根本上解决问题。提高政治能力, 很重要的一条就是

要善于从政治上分析问题、解决问题。只有从政治上分析问题才能看清本质，只有从政治上解决问题才能抓住根本。

根据以上陈述，可以得出以下哪项（ ）

- A. 只有从政治上认识问题、解决问题，才能从根本上解决问题
- B. 如果善于从政治上分析问题、解决问题，就能提高政治能力
- C. 一旦陷入头痛医头、脚痛医脚的被动局面，就无法从根本上解决问题
- D. 如果没有看清本质、抓住根本，说明没有从政治上分析问题、解决问题

27. 随着食品工业的发展，丙酸经常被当作一种抑制霉菌生长的添加剂使用，烘焙食品中都喜欢添加丙酸来进行防腐。正常情况下，人体中的微生物也会在结肠中通过发酵未完全消化的碳水化合物产生丙酸，这种丙酸对人体有益。但最近一项研究表明，外源性摄入和自体产生的丙酸作用并不一样，长期摄入外源性丙酸会导致人体出现胰岛素偏高、胰岛素抵抗等现象。由此，某食品专家建议，应该禁止在食品中添加丙酸。

以下哪项如果为真，最能支持上述食品专家的建议（ ）

- A. 将丙酸作为防腐剂使用只是食品行业的惯常做法，并未得到政府有关部门的确认
- B. 人体一旦出现胰岛素偏高、胰岛素抵抗等现象，就容易导致糖尿病和肥胖的发生
- C. 从外界摄入的丙酸会出现在人体的各个部位，而自体产生的丙酸只存在结肠部分
- D. 丙酸不仅直接被添加到食品中，许多其他的食品添加剂也都通过加入丙酸进行防腐

28. 每个“熊孩子”的背后都有一个“熊家长”。这些“熊家长”对“熊孩子”百依百顺，溺爱娇惯，这使得“熊孩子”以自我为中心，缺乏规则意识，容易产生过激的非理性行为。当“熊孩子”有些行为对他人和社会造成伤害时，“熊家长”也会以“他还是个孩子”来护短辩解，要求原谅。

以下哪项最可能是“熊家长”辩解所隐含的前提（ ）

- A. “熊孩子”犯错误不是故意为之
- B. 只要是孩子就难免犯错
- C. “熊孩子”长大后会成为好孩子
- D. 孩子犯错误应当被原谅

29. 由于业务量增加，某服务中心计划增加登记、咨询、报送、投诉和综合 5 个业务窗口，拟安排的 5 名工作人员所熟悉的业务各有不同：小丽作为新人，只熟悉登记业务；小马熟悉登记和咨询业务；小高熟悉报送和投诉业务；老王除了综合和投诉，其他业务都很熟悉；老董所有业务都很精通。最终，5 名工作人员被分别安排到 5 个窗口负责各自熟悉的业务。

关于人员安排，以下说法正确的是（ ）

- A. 老董不负责综合业务窗口
- B. 小高负责报送业务窗口
- C. 小马不负责咨询业务窗口
- D. 老王负责报送业务窗口

30. 某部门新录用甲、乙、丙三名工作人员，他们各自的籍贯为江苏、安徽、浙江中的某个省。张红、李梅和王芹对他们的籍贯有如下猜测：

张红：甲是浙江人，乙是安徽人，丙也是浙江人；

李梅：甲是浙江人，乙是江苏人，丙不是江苏人；

王芹：甲是江苏人，乙是浙江人，丙也是江苏人。

已知，对甲、乙、丙的籍贯，上述三人均猜对 1 个，猜错 2 个。

根据以上信息，以下哪项是可能的（ ）

- A. 甲是江苏人，乙是安徽人，丙是浙江人
- B. 甲是浙江人，乙是江苏人，丙是江苏人
- C. 甲是安徽人，乙是浙江人，丙是江苏人
- D. 甲是江苏人，乙是安徽人，丙是安徽人

31. 某款策略类竞技游戏在所有时刻都有 10^{26} 种可以选择的操作，并且是一种不完全信息的游戏——玩家通常看不到对手在做什么，因此就无法预测下一步操作。最近，某互联网公司开发了能够玩该款游戏的智能机器人 AlphaStar，在一周内就获得了宗师等级，这意味着它在该地区九万多名玩家中排在前 0.15%。游戏开发者据此断言，AlphaStar 在游戏策略上已经和人类持平或者胜过人类了。

以下哪项如果为真，最能支持上述游戏开发者的论断（ ）

- A. AlphaStar 的反应速度被限制在人类的反应水平
- B. AlphaStar 在游戏中隐藏了自己是机器人的身份
- C. AlphaStar 汇集了人工智能最新发展的成果和技术
- D. AlphaStar 可以利用的支持决策的信息量远超人类

32. 市民文化周期间，文化部门要在桃源、东山、南浦、九华四个社区分别举办书展、画展、影展和文博展四种不同的文化惠民活动，由于时间场地限制，每个社区只能举办一种活动。已知：

桃源社区既不办影展，也不办画展；

东山社区既不办书展，也不办画展；

如果东山社区不办画展，则南浦社区不办书展；

如果九华社区不办文博展，则南浦社区举办书展。

据此可以推出以下哪项（ ）

- A. 东山社区有可能举办文博展
- B. 画展不可能在南浦社区举办

- C. 九华社区既没办影展，也没办画展
- D. 书展要么是南浦社区办，要么是九华社区办

33. 螺旋锥蝇是一种极具攻击性的食肉蝇，偏好鲜血和活肉，喜欢攻击恒温动物（比如人类、牲畜）身上的小伤口，传播各类病菌。科学研究发现，雌螺旋锥蝇是单配性的，一生只能交配一次。据此，有科学家提出一种“以蝇制蝇”的昆虫绝育方法来消灭螺旋锥蝇，即将雄蝇置于超高辐射之下使其失去繁殖能力后放生到野外，如果雌蝇与之交配，产下的卵将不会孵化，日积月累，整个螺旋锥蝇种族就会自然消失。

以下各项如果为真，则除哪项外均能质疑上述科学家的建议（ ）

- A. 经实验改造的绝育雄蝇数量不一定多于自然状态下有生育能力的雄蝇
- B. 用放射性手段改变雄螺旋锥蝇的特性，可能会破坏大自然的生态平衡
- C. 雌螺旋锥蝇有可能会排斥经过超高辐射而失去繁殖能力的雄螺旋锥蝇
- D. 虽然雌螺旋锥蝇是单配性的，但雄螺旋锥蝇可与多只雌螺旋锥蝇交配

材料：在 400 米跑比赛中，罗、方、许、吕、田、石 6 人被分在一组。他们站在由内到外的 1 至 6 号赛道上。关于他们的位置，已知：田和石的赛道相邻；吕的赛道编号小于罗；田和罗之间隔着两条赛道；方的赛道编号小于吕，且中间隔着两条赛道。

34. 根据以上陈述，关于田的位置，以下哪项是可能的（ ）

- A. 在 3 号赛道上
- B. 在 4 号赛道上
- C. 在 5 号赛道上
- D. 在 6 号赛道上

35. 根据以上陈述，可以推出以下哪项（ ）

- A. 许和石的赛道相邻
- B. 许和石之间隔着一条赛道
- C. 许和石之间隔着两条赛道
- D. 许和石之间隔着三条赛道

四、定义判断

36. 造血式扶贫：指政府部门或社会力量通过持续性地扶持农村产业发展，拓宽农产品销售及消费渠道等，帮助贫困地区、贫困人口增收脱贫的扶贫方式。

下列属于造血式扶贫的是（ ）

A. 某县按照“东部林果、旅游，西部设施农业”的整体思路，一直坚持“产业+基地+车间”的产业发展模式，使农民年收入翻了一番，人均达到近万元

B. 某县扶贫办组织了 200 多名山区农民，经过严格培训，输送到东南沿海城市工作。这些农民每月都按时寄钱回家，家里的日子越过越红火

C. 县农科所资助某村贫困家庭 100 头种羊，多次对他们进行科学养羊技术培训，并安排技术人员进行“一对一”的专业指导

D. 为了解决全村苹果严重滞销的问题，村里的几个年轻人共同开办了一个水果直销网店。不到半月时间，所有苹果就销售一空

37. 分众化教育：指根据受众的具体差异，用典型案例分别进行宣传，以激发情感共鸣，达成特定目标的教育方式。

下列属于分众化教育的是（ ）

A. 某市组织全市技术创新能手分别深入到所在行业部门，分享自己的创新经验，极大地激发了各行各业人士的创新热情

B. 某地组织的“五一劳动奖章”获得者宣讲团多次进行巡回报告，他们的先进事迹深深地打动了前来听讲的市民

C. 每天傍晚，某学校附近地铁口都有艺术教育培训机构的招生人员散发传单，上面印着考入名校的学生彩照和成绩

D. 在“不忘初心、牢记使命”主题教育中，某区组织党员干部部分系统观看专题纪录片《警钟长鸣》，取得了预期效果

38. 喘息服务：指由政府部门购买服务，为有失能失智老人的低收入家庭或特殊困难家庭提供临时性援助，让常年在家照顾亲属者得到短暂休息。

下列属于喘息服务的是（ ）

A. 由于儿女移居国外，年迈的赵先生夫妇只得相依为命，平时一起去市场买日常用品，一起去医院就诊取药。社区了解情况后，专门雇人每天上门半小时帮他们料理家务

B. 杨先生10多年前中风，老伴杜女士为了照料他，每天忙得团团转，连自己生病都没时间去医院。今年初，街道派护工不定期上门服务，让她能有时间到医院看病或稍事休息

C. 父亲去世后，年过六旬的张先生独自承担起了照顾精神病妹妹的重任，从来没有睡过一个安稳觉。不久前，老张专门请了一名钟点工照看妹妹，感觉轻松了许多

D. 患健忘症的陈奶奶经常独自出门闲逛，多次走失，靠低保维持生活的儿子无力照顾。区民政部门了解情况后，把陈奶奶送进养老院，并承担了所有费用

39. 垃圾资源化：指垃圾进行分选处理后，成为无污染的循环再利用原料，进而加工、转化为再生资源的垃圾处理方式。

下列属于垃圾资源化的是（ ）

A. 某市为了缓解因煤炭资源过度开采造成的地面下陷问题，新建了一个大型垃圾场，经过分类后的城市生活垃圾每天都会运到这里集中填埋

B. 垃圾焚烧发电需要投入巨大资金，随着相关技术不断进步，电能产量越来越高，尽管排放问题还没有彻底解决，但它仍然是目前比较常见的城市垃圾处理方式

C. 乡村垃圾大多采用分类处理的方法：有回收价值的，挑选出来后稍加处理卖给需要的人，其他大部分卖到废品回收站点；无回收价值的，堆到指定地点

D. 某市正在推行新的垃圾处理方式：将厨余垃圾等有机物分离出来，制成有机肥料；将砖头瓦块、玻璃陶瓷等无机物分离出来，制成新型免烧砖

40. 抢跑焦虑症：指家庭或学校由于担心孩子缺乏竞争力，急于进行超前教育、加深教学内容等违背教育教学基本规律的现象。

下列不属于抢跑焦虑症的是（ ）

A. 暑假刚开始，小明的家长便为他买好了下学期的语文、数学、外语教材及教辅材料，要求他严格按计划完成全部的预习任务

B. 某教育培训机构要求授课教师适当增加教学内容，加大学习难度，吸引更多的优秀学生前来参加各门各类课程的补习

C. 王女士儿子成绩一直很优秀，虽然才读小学三年级，家里就为他请了家教，每周两次一对一辅导法语学习

D. 在全市中学生数学竞赛前夕，某校多次聘请大学教授占用其他课程的时间为参赛选手进行强化训练

41. 过度营销：指企业过分依赖或使用促销手段以获取利润或经营业绩，而不考虑顾客心理感受的短期营销行为。

下列属于过度营销的是（ ）

A. 某影片首映期间，影院、市民广场、居民区甚至学校周围到处张贴着巨幅海报

B. 某微商为了扩大营销面，在各大门户网站发布大量广告，以推销自己的产品

C. 某健身中心为稳定、扩大自己的客户群，以优惠的价格吸引顾客办理年卡

D. 某博物馆为了让市民了解馆藏的国宝，连续十多天在新闻媒体上介绍国宝知识

42. 银发危机：指老年人因为贪图小便宜而上当受骗，遭受财产损失和精神伤害双重打击的现象。

下列属于银发危机的是（ ）

A. 小吴的父亲喜欢根据手机网站上文物鉴定专家的推荐收藏玉器，房子里到处都是他买来的“宝贝”，虽然小吴经常和他吵架，但他却不认为自己有错

B. 赵大妈家附近的商场举办促销活动，每天前 200 名的顾客免费送 10 个鸡蛋，昨天她把鸡蛋领回家后，发现手上的金戒指不见了，在家整整生了一天闷气

C. 在社区医院排队挂号时，一位“热心人”得知孙大妈有脑血管病，向她推荐了一种特效药，原价每瓶 499 元，只收她 100 元，她当场买了 10 瓶。回家后听女儿说这种药在正规药房只卖 30 元，她懊恼不已

D. 某企业在东方小区举行加湿器直销活动，李大妈在推销员劝说下买了一台，半月后才发现虽然货真价实，自家却完全用不上，她一气之下把它扔进地下室

43. 口述登记制：指办理个体工商户登记手续时，申请人无需亲自填表，只要口述各项信息，核对确认后即可当场领取营业执照的登记方式。

下列属于口述登记制的是（ ）

A. 赵先生到市场监督管理部门办理个体户注册登记手续。在窗口人员指导下按照“申请-受理-核准”的步骤，半小时就办好了手续。第二天就拿到了自己的营业执照

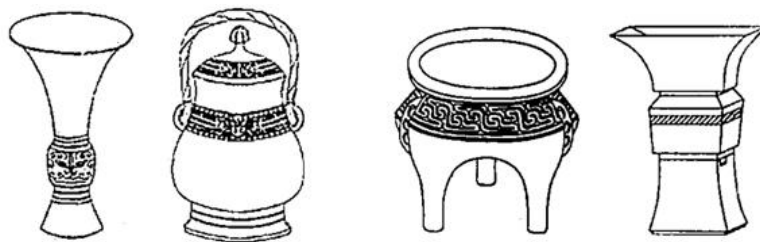
B. 汪先生打算申请运动器材店营业执照。他从网上弄清了申请程序，第二天来到区市场监督管理部门登记处，简要地回答了几个问题，不一会儿营业执照就办好了

C. 程先生到市场监督管理部门办理花店营业执照。按照现场人员的指导填好表格，经办人员输入系统打印出信息登记表，程先生签名确认后就拿到了营业执照

D. 蔡先生到市场监督管理部门办理营业执照注销手续。在指定窗口完成自动身份识别后，回答了工作人员的询问，很快就办完了全部手续

44. 鬲 (lì) 是古代一种煮饭用的炊器，有陶制鬲和青铜鬲，其形状一般为侈口（口沿外倾），有三个中空的足，便于炊煮加热。觚 (gū) 是古代一种用于饮酒的容器，也用作礼器，圈足、敞口、长身，口部和底部都呈现为喇叭状。卣 (yǒu) 是古代的一种酒器，口椭圆形，圈足，有盖和提梁，腹深。尊 (zūn) 是古代的一种大中型盛酒器，圈足，圆腹或方腹，长颈，敞口，口径较大。

下列 4 个图形依次为（ ）



- A. 觚、尊、鬲、卣 B. 尊、鬲、觚、卣
C. 觚、卣、鬲、尊 D. 鬲、卣、尊、觚

45. 谜语有多种猜法。比较法是将字形、字义相近或相反的词放在一起，加以比较而扣合谜底；溯源法是追溯谜面的来源及其与原出处的上下关联，然后再扣合谜底；拟物法是将人或人体某部分物化，将谜面字词语义或所言之事物化，扣合谜底。

谜面：枕头。要求打一成语。谜底：置之脑后

谜面：桃花潭水深千尺。要求打一成语。谜底：无与伦比

谜面：加一笔不好，加一倍不少。要求打一字。谜底：夕

关于①②③谜语的猜法，下列判断正确的是（ ）

- A. 溯源法，②比较法，③拟物法 B. 溯源法，②拟物法，③比较法
C. 比较法，②溯源法，③拟物法 D. 拟物法，②溯源法，③比较法

2020 年江苏行测 B 类

一、类比推理

46. 裙子：毛料裙子：时装

- A. 酒精：食用酒精：粮食 B. 手机：5G 手机：通讯
C. 包子：肉馅包子：蒸笼 D. 小说：历史小说：名著

47. 春节：饺子：饺皮

- A. 中秋节：月饼：蛋黄 B. 清明节：青团：青艾
C. 端午节：粽子：粽叶 D. 元宵节：酒酿：糯米

48. 开车不喝酒：喝酒不开车

- A. 家是最小国：国是千万家
B. 不到长城非好汉：唯有好汉到长城
C. 你好我好大家好：大家好了你我好
D. 真金不怕火炼：怕火炼的不是真金

49. 裤子 之于 （ ） 相当于 （ ） 之于 笔画

- A. 剪刀——色彩 B. 秋裤——画笔
C. 布料——汉字 D. 裁缝——书家

50. （ ） 之于 实事求是 相当于 南辕北辙 之于 （ ）

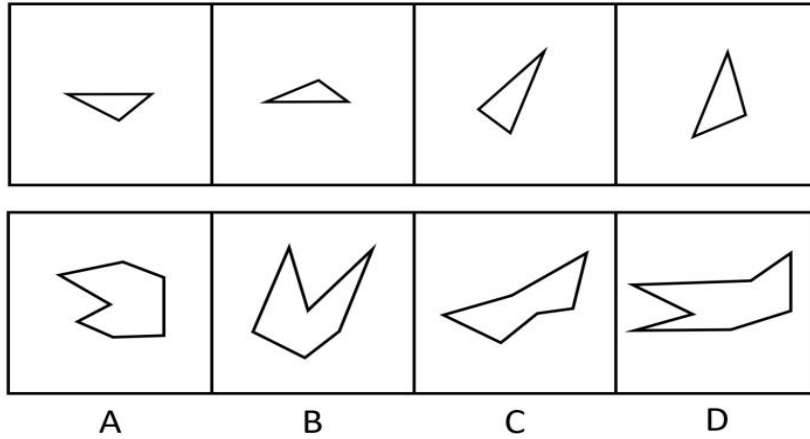
- A. 按图索骥——方枘圆凿 B. 上下求索——守株待兔
C. 刻舟求剑——声东击西 D. 量体裁衣——背道而驰

51. $\&aa\&\alpha A\alpha Aa$

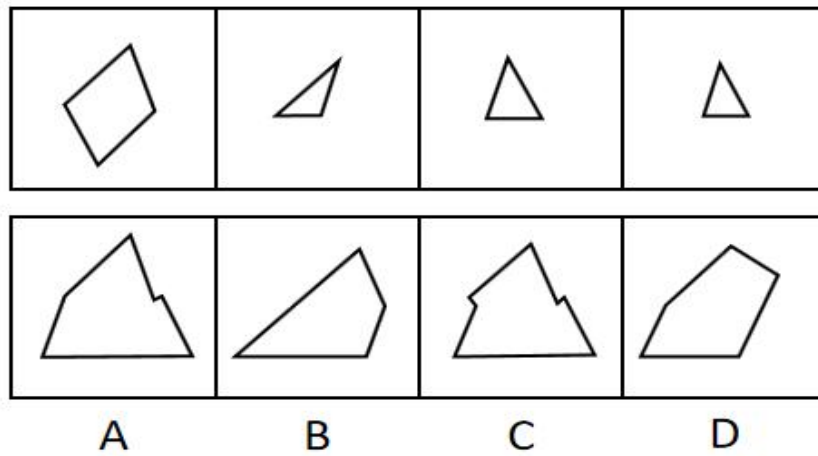
- A. □日□kYkY目 B. %ぎぎ%□6□9き
C. M@@M?☆?☆@ D. YddY□○□◎d

二、图形推理

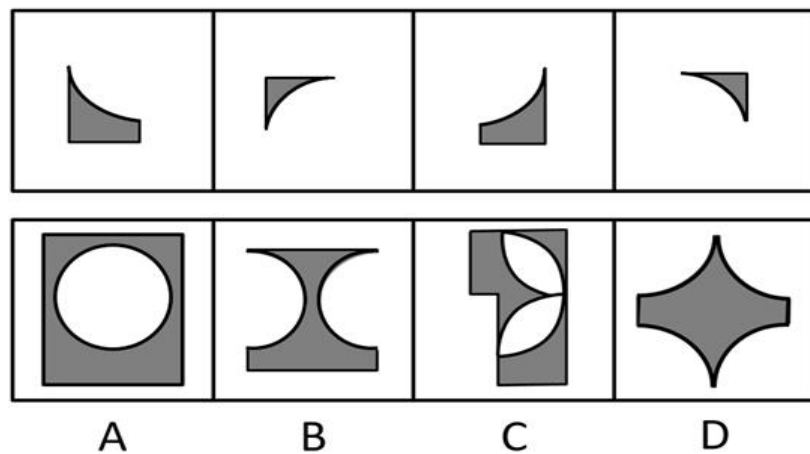
52. 下面四个图形中，只有一个是上面四个图形拼合（只能通过上、下、左、右平移）而成的，请把它找出来（ ）



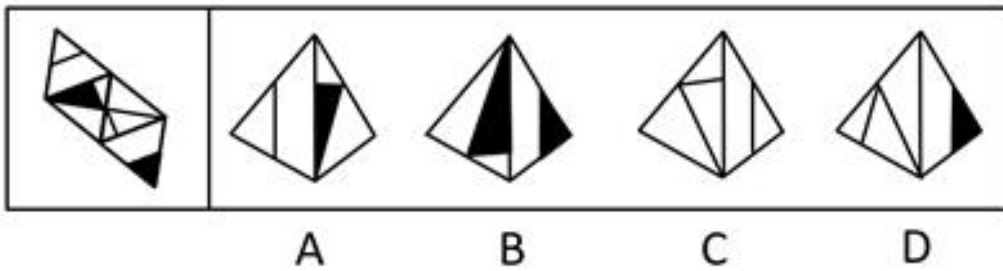
53. 下面四个图形中，只有一个是上面四个图形拼合（只能通过上、下、左、右平移）而成的，请把它找出来（ ）



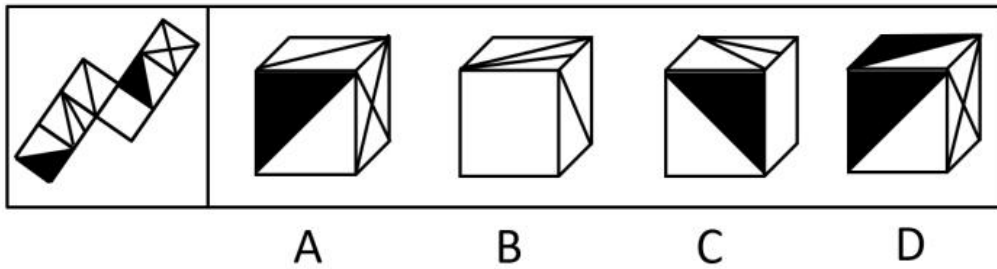
54. 右边四个图形中，只有一个是左边四个图形拼合（只能通过上、下、左、右平移）而成的，请把它找出来（ ）



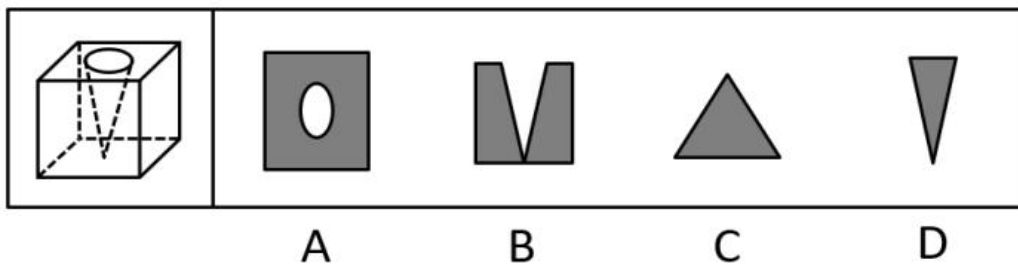
55. 左边给定的是纸盒外表面的展开图，右边哪一项能由它折叠而成？请把它找出来（ ）



56. 下面给定的是纸盒外表面的展开图，右边哪一项能由它折叠而成？请把它找出来（ ）



57. 左图为给定的立体，从任意角度剖开，右边哪一项不可能是它的截面图（ ）



三、逻辑判断

58. 为了研究早餐前锻炼和早餐后锻炼对健康的影响，研究人员进行了连续 8 周的实验，其中，实验组在早餐前锻炼，对照组在早餐后锻炼。结果发现，实验组锻炼过程中平均燃烧的脂肪量是对照组的 2 倍。体检结果进一步显示，实验组胰岛素反应能力得到了改善，而对照组没有。研究人员由此认为，相较于早餐后锻炼，早餐前锻炼更能降低罹患心血管疾病的风险。

以下哪项如果为真，最能支持上述研究人员的观点（ ）

- A. 胰岛素反应能力强能有效稳定人体的血糖含量
- B. 脂肪量过高是罹患心血管疾病的主要原因
- C. 饱食状态下锻炼常常会引起胃穿孔等意外
- D. 实验对象都是已经患有心血管疾病的个体

59. 市民文化周期间，文化部门要在桃源、东山、南浦、九华四个社区分别举办书展、画展、影展和文博展四种不同的文化惠民活动，由于时间场地限制，每个社区只能举办一种活动。已知：桃源社区既不办影展，也不办画展；东山社区既不办书展，也不办画展；如果东山社区不办画展，则南浦社区不办书展；如果九华社区不办文博展，则南浦社区举办书展。

据此可以推出以下哪项 ()

- A. 东山社区有可能举办文博展
- B. 画展不可能在南浦社区举办
- C. 九华社区既没办影展, 也没办画展
- D. 书展要么是南浦社区办, 要么是九华社区办

60. 张、王、李、赵四人计划在 6 至 9 月中分别选择一个月休年假, 但部门人手短缺, 一个月中不能有两个人休假。赵不希望安排在 6 月, 张要求不要安排在 9 月, 李表示 6 月或 8 月都可以, 王提出只能安排在 7、8 月份。

如四人的要求均得到满足, 则可以推出以下哪项 ()

- A. 张只能安排在 6 月或者 7 月
- B. 只要李不在 6 月, 王一定会在 7 月
- C. 如果李安排在 8 月, 那么张安排在 7 月
- D. 如果王安排在 7 月, 那么李安排在 6 月

61. 人类学家测量了历史上各个时期的人类头骨之后发现, 当代成人的脑容量平均为 1349 毫升, 相比中石器时代人类的脑容量, 男性减少了 10%, 女性减少了 17%。研究者认为, 在分工日益明确的时代, 富有合作精神的人比其他人有更多的生存和繁衍机会, “最友好者生存”是导致人类大脑不断缩小的重要原因。

以下哪项如果为真, 最能支持上述结论 ()

- A. 当代脑科学研究表明, 脑容量更小会使得人类更富有合作精神
- B. 合作会减少人类的攻击性, 而攻击性的减少会使人身体变轻、脑容量减少
- C. 随着气温升高, 人们对体重的要求降低, 身体的缩小必然带来大脑的缩小
- D. 外部信息存储介质的出现减轻了大脑的记忆负担, 人类的大脑随之缩小

四、定义判断

62. 良性冲突: 指管理者设法把企业内部的小冲突转化为凝聚力, 推动企业发展的管理策略。

下列属于良性冲突的是 ()

- A. 公司召开员工代表大会修订奖惩条例, 与会者的意见出现了巨大分歧, 大家争得面红耳赤, 最后少数服从多数, 通过了该条例的修订
- B. 某企业面临着一项急需解决的技术难题, 总经理提议谁能提出解决方案就可以担任项目主管并获得 10 万元重奖。这一提议遭到部分与会者的反对, 最终未能通过
- C. 徐先生和景先生是某公司的一对老搭档, 在一些重大决策问题上经常意见相左, 互不相让, 最终却总能达成一致。在他们的领导下, 公司业绩稳步提高

D. 市场部蒋经理听到销售员反映产品质量问题后，向质检部反馈意见，与生产部经理产生了矛盾。公司组织三个部门多次开会协调，最终建立了良好沟通机制

63. 乡贤调解：指村民之间发生纠纷后，由具有较高威望和影响力的乡村贤达人士出面解决纠纷的民间调解方式。

下列不属于乡贤调解的是（ ）

A. 老周与老马因借贷纠纷对簿公堂，法院受理后到村里开庭，并请了几位乡贤旁听，经过现场调解，双方达成谅解

B. 老肖年轻时走南闯北，见多识广，全村上上下下都很敬重他。张家的牛吃了李家的草，高家的水流进了齐家的房，村民只要找到他，问题一下就解决了

C. 老于从镇司法所退休回村后，用老百姓的“土办法”解决了蒋家婆媳不和的老大难问题。从此以后，村里一旦发生什么纠纷，大家都爱跑来请他去评理

D. 老张和邻居老李因为家门口的路闹得不可开交，把路堵死。家住村头的老支书过去调解，两人一见到他，火气就消了一大半，很快握手言好，开通了道路

64. 等待经济：指商家利用人们购物、就医、出行时的空余时间，提供选择自由、使用方便的付费服务。

下列不属于等待经济的是（ ）

A. 某购物中心在顾客休息区设置了多台 VR 游戏机，顾客扫码付费即可操作

B. 某社区卫生服务中心添置了数台功能各异的按摩椅，供候诊患者刷卡使用

C. 某小区内新开设了一家无人超市，每到周末附近居民就喜欢到这里来购物

D. 某火车站在候车室内放置了数台自动售卖机，供旅客自主选购饮料、食品

65. 信息污染：指信息传播过程中混入危害性、欺骗性或误导性信息元素，从而影响对有效信息的正常获取和利用的现象。

下列属于信息污染的是（ ）

A. 心理学家让实验对象每天看几千张不同的照片，几天后，被试者大都出现头痛、失眠等现象，无法按要求描述相似照片的差别

B. 某牙科医院网站转载了某权威医学杂志的一篇科研论文，但在论文末尾的显著位置附上该医院相关产品的广告

C. 自从帮父母开通微信账号后，小张的微信朋友圈里每天都会看到父母转发的各种养生鸡汤和伪科学信息

D. 陈某在微博上转发某省森林火灾事故的新闻报导时，将五年前亚马孙雨林特大火灾的现场图片作为配图插入其中

66. 痕迹管理：指按照相关部门要求，用文字或图片等材料记录、展示工作过程和业绩，作为绩效考核依据的监督管理手段。

下列不属于痕迹管理的是（ ）

A. 李先生被派往分公司调研，每天忙得不亦乐乎：手机上装了多个工作 APP，必须随时关注上边的各种信息，还得及时把现场工作照上传给公司领导

B. 某公司人力资源部门存储了大量的记录公司各项活动的文字影像资料，为每年的年终总结和工作汇报提供了足够的第一手材料

C. 按有关部门规定，申报项目时，除了填写申请书，还须以附件形式提供相应的图片、证书、文件等作为支撑材料，以供评审专家核查

D. 某窗帘公司要求安装人员为客户上门服务时，必须把测量、安装、调试、用户评价等每个环节拍成小视频，现场传给部门经理

67. 社交恐惧症：指公众场合或正常社交活动中，因为过分担心、害怕而刻意回避的心理现象。

下列属于社交恐惧症的是（ ）

A. 小王以前多次参加招聘面试，每次面对考官都非常紧张，连一些常识性问题都答不上，现在他再也不愿参加招聘活动了

B. 赵先生从来不喜欢和同事打招呼，更不会主动开玩笑，同事们见了他也都远远地避开

C. 张女士非常喜欢广场舞，却一直跳不好。每当看到一种新的广场舞，就在家里反复模仿练习，但是从来不去广场跳集体舞

D. 小李是公司业务骨干，但是不善言辞。有一次，经理让他向客户介绍新产品的研发情况，小李刚讲了几句就满脸通红无话可说了

68. 情感消费：指消费者出于某种情感需要而购买商品的行为，这种情感通常与商品的使用功能并没有直接关系。

下列属于情感消费的是（ ）

A. 小王和小马是同学，情同姐妹，小王是某大牌化妆品的经销商，小马每次都能以最低的价格从小王处购买她需要的化妆品

B. 张先生看到某旅行社儿童节前推出的“欢乐童年南方行”定制旅游项目后，就选择了儿子一直梦寐以求的一条线路

C. 小陈对某电商平台有深厚的感情，多年来一直喜欢在这家平台购买日常用品，因为这家电商的商品质量好、价格低、服务优

D. 刘先生知道父亲有好多 T 恤衫，看到一件背后印有父亲生肖图案的 T 恤衫时，虽然价格不菲，还是毫不犹豫地买了回来

2020 年江苏行测 A 类

一、类比推理

69. 柳：柳眉：柳腰

- A. 莲：莲花：莲蓬
- B. 松：松紧：松散
- C. 玉：玉手：玉食
- D. 鸟：鸟瞰：鸟语

70. 摸清致贫原因：提出扶贫措施

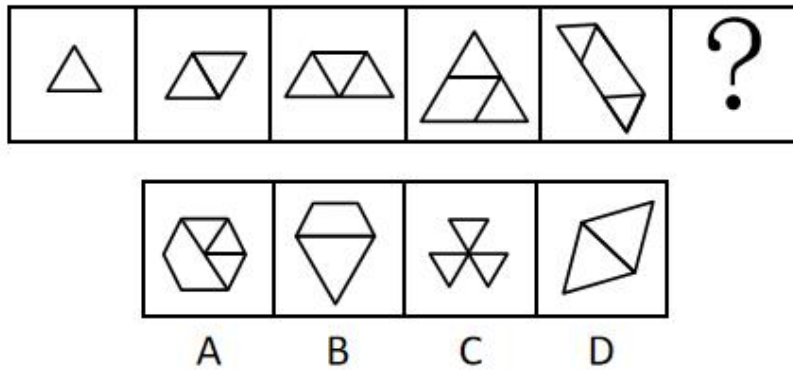
- A. 通过安全检查：进入高铁车厢
- B. 增加作物产量：选育作物良种
- C. 改正错误言行：认识错误危害
- D. 增强合作意识：苦练服务本领

71. ◎BMBqM◎qW

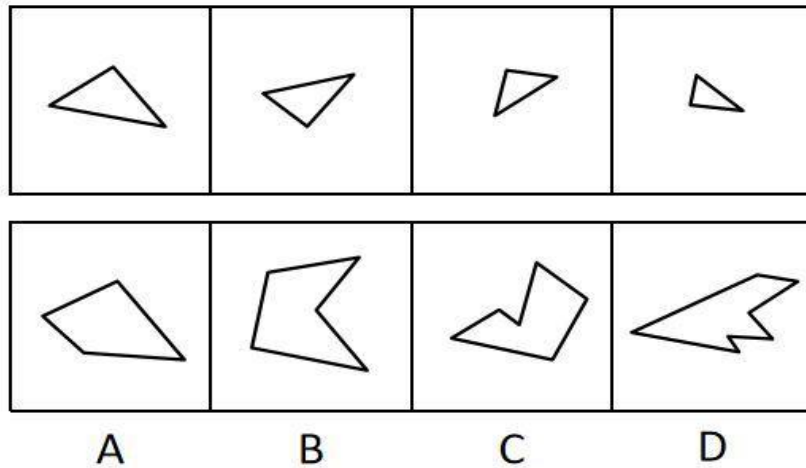
- A. \$△Q△☆Q\$N☆
- B. &◇△◇?▽&?@
- C. s%△%▽△s◇▽
- D. 5A~A◎~5◎8

三、图形推理

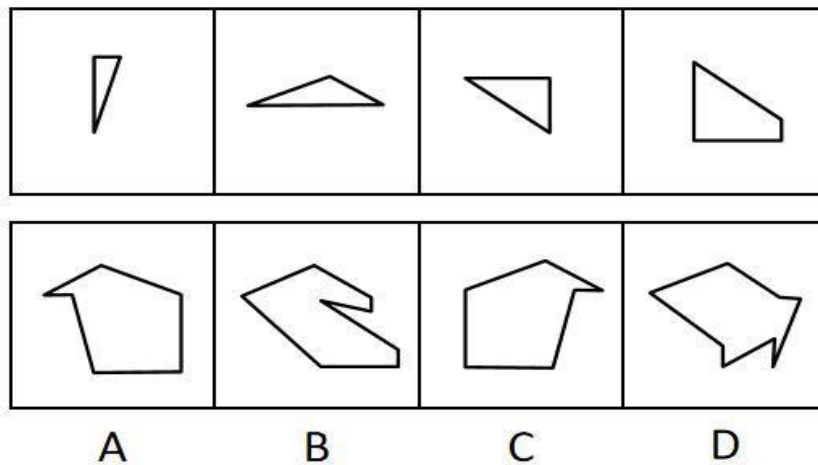
72. 请从所给的四个选项中，选出最恰当的一项填入问号处，使之呈现一定的规律性（ ）



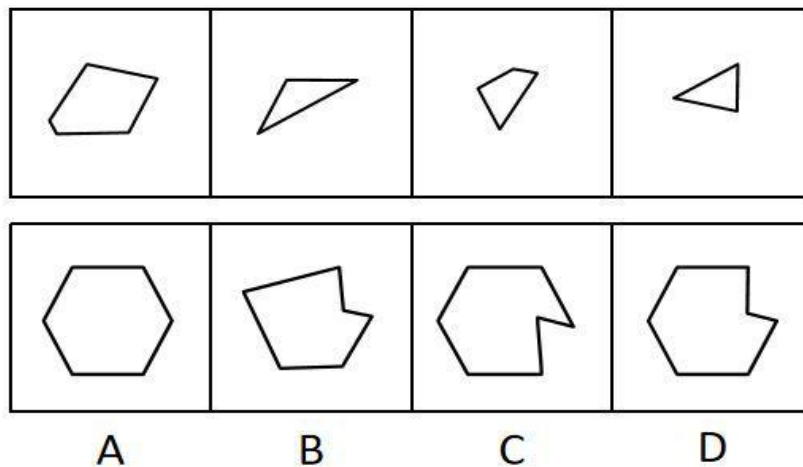
73. 下面四个图形中，只有一个是上面四个图形拼合（只能通过上、下、左、右平移）而成的，请把它找出来（ ）



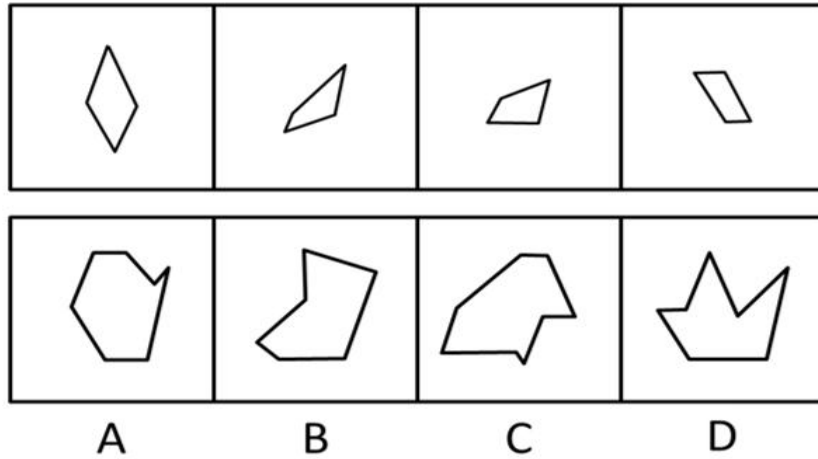
74. 下面四个图形中，只有一个是上面四个图形拼合（只能通过上、下、左、右平移）而成的，请把它找出来（ ）



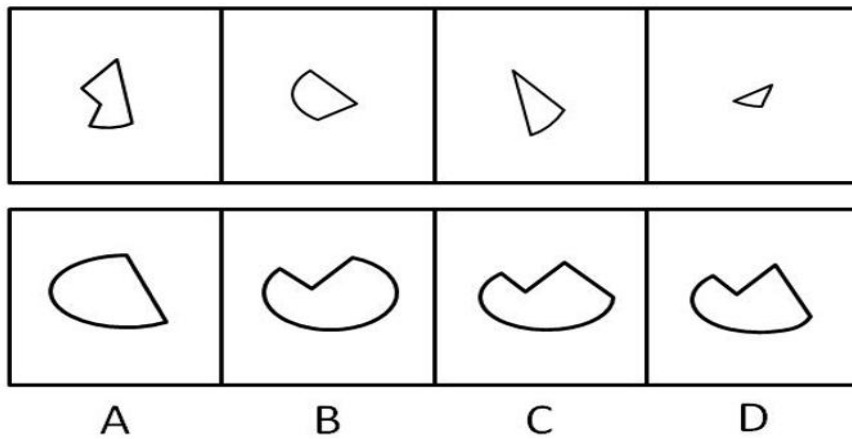
75. 下面四个图形中，只有一个是上面四个图形拼合（只能通过上、下、左、右平移）而成的，请把它找出来（ ）



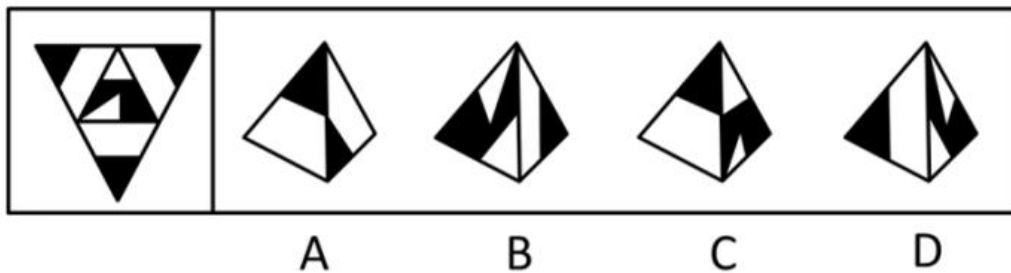
76. 下面四个图形中，只有一个是上面四个图形拼合（只能通过上、下、左、右平移）而成的，请把它找出来（ ）



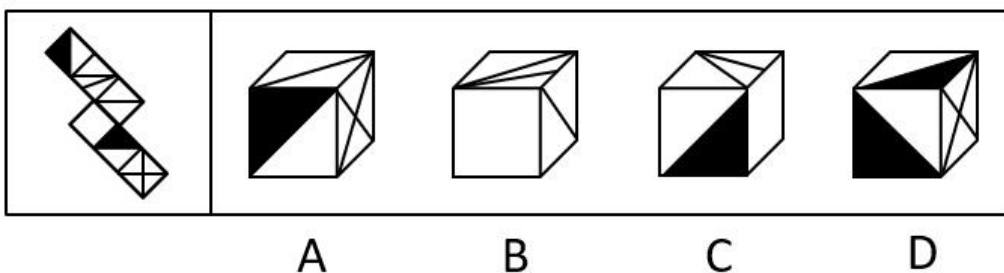
77. 下面四个图形中，只有一个是上边的四个图形拼合（只能通过上、下、左、右平移）而成的，请把它找出来（ ）



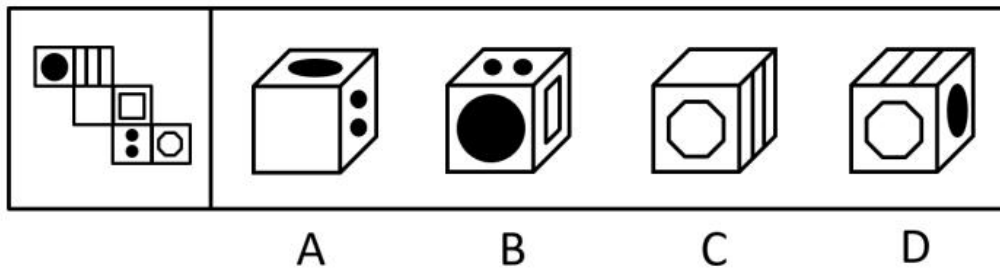
78. 下面给定的是纸盒外表面的展开图，右边哪一项能由它折叠而成？请把它找出来（ ）



79. 下面给定的是纸盒外表面的展开图，右边哪一项能由它折叠而成？请把它找出来（ ）



80. 下面给定的是纸盒外表面的展开图，右边哪一项能由它折叠而成？请把它找出来（ ）



四、逻辑判断

81. 一项对某企业基层工作人员的研究报告显示,使用社交软件的基层工作人员罹患糖尿病、精神疾病、缺血性心脏疾病的概率均显著低于不使用社交软件的。据此,该企业管理人员认为,社交软件的使用有利于基层工作人员的健康。

以下哪项如果为真,最能削弱上述管理人员的结论()

- A. 长时间使用电脑或者手机会引发包括精神疾病在内的多种健康问题
- B. 该企业基层工作人员没有足够多的时间和精力锻炼身体
- C. 该企业基层工作人员压力大,身心健康的人才在工作之余使用社交软件
- D. 该企业基层工作人员普遍在四十岁以上,相当一部分人不使用社交软件

82. 随着社会经济的快速发展,很多现代化都市高楼林立,变成了钢铁水泥的森林。但欧洲某著名城市几乎没有一座高楼大厦,某旅游者在游览时了解到该城市仅有 10 万人。由此他认为,人口稀少、需求不旺是这座城市不建高楼大厦的主要原因。

以下哪项如果为真,最能质疑上述旅游者的观点()

- A. 许多住在老城区的社会精英都想住进现代化高楼
- B. 该城市已经规划 3 年内建造一座高层地标性建筑
- C. 该城市规定一般建筑物的高度不得超过当地教堂
- D. 该地区人口近百万的其他城市也大都没有高楼大厦

四、定义判断

83. 情感营销:指在商品销售过程中,商家运用各种手段拉近与客户的情感距离,从而达到销售目的的营销策略。

下列属于情感营销的是()

- A. 商场导购员一见到有人走近,就会满脸笑容地迎上来,用亲属之间的各种称谓拉着顾客去体验、购买商品
- B. 小刘经常和小丁一起带孩子游玩,不仅帮小丁解决了儿子入学的难题,还为小丁的儿子购买了自己负责销售的儿童成长类保险产品

C. 某社区组织爱心团队深入辖区低保家庭，悉心照顾孤寡老人，了解他们的消费需求，并从赞助商那里为他们挑选合适的商品

D. 袁先生以前是张先生的供货商，当年帮了他很大的忙。现在张先生成立了自己的公司，袁先生已不再经商，但是两人仍亲如兄弟

84. 同辈压力：指年龄相近的人因生活、工作、社会地位等方面存在差距，担心受到轻视排挤而产生的心理压力。

下列属于同辈压力的是（ ）

A. 老王的朋友都为孩子买了婚房，他也想为儿子买一套，自己的经济实力却远远达不到，为此非常烦恼

B. 某学院近年引进的教师大多晋升了高级职称，有二十多年教龄的赵老师仍然还是讲师，他常常愁得睡不着觉

C. 销售员小丁看到别人都已完成公司的年度销售任务，自己才完成了六成。为防止明年被调离销售部，不分昼夜联系客户

D. 车间主任要求新员工小李一周内必须熟悉设备，能够独立操作。因担心不能顺利过关，他加班加点苦练技能

85. 层递：指根据事物的逻辑关系，连用结构相似的语句，把意思按照大小、多少、高低、轻重、远近等不同程度逐层排列出来，表达层次递进的事理。

下列没有使用层递的是（ ）

A. 能尽其性，则能尽人之性；能尽人之性，则能尽物之性；能尽物之性，则可以赞天地之化育；可以赞天地之化育，则可以与天地参矣

B. 吾十有五而志于学，三十而立，四十而不惑，五十而知天命，六十而耳顺，七十而从心所欲不逾矩

C. 古之欲明明德于天下者，先治其国；欲治其国者，先齐其家；欲齐其家者，先修其身；欲修其身者，先正其心；欲正其心者，先诚其意；欲诚其意者，先致其知

D. 一曰礼，二曰义，三曰廉，四曰耻。礼不逾节，义不自进，廉不蔽恶，耻不从枉。故不逾节则上位安，不自进则民无巧诈，不蔽恶则行自全，不从枉则邪事不生

2021年江苏行测C类

一、类比推理

1. 调查：求真

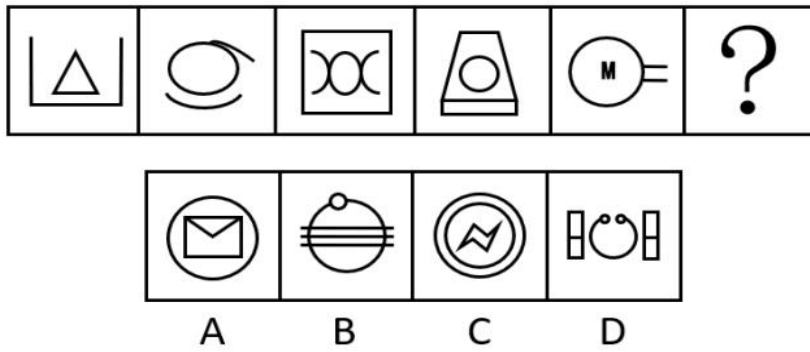
A. 晨练：健身

B. 施肥：收割

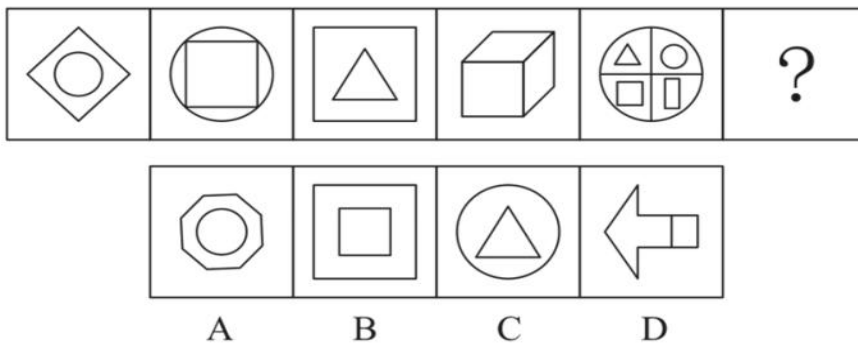
- C. 记忆：怀念 D. 备份：复制
2. 抗疫：疫苗
- A. 修路：路基 B. 投诉：诉状
- C. 反驳：数据 D. 医疗：患者
3. 头雁：雁阵
- A. 蜂王：蜂巢 B. 猎狗：羊群
- C. 蚁后：工蚁 D. 狮王：狮群
4. 石墙：土墙
- A. 风能：水能 B. 合法：非法
- C. 河道：水道 D. 新房：婚房
5. 形象：花容月貌
- A. 态度：前倨后恭 B. 体格：虎背熊腰
- C. 行踪：闲云野鹤 D. 环境：山清水秀
6. 金：金币：货币
- A. 木：木床：床 B. 水：水稻：稻
- C. 火：火盆：盆 D. 土：土鸡：鸡
7. 白鸽：母鸽：鸽
- A. 柿饼：甜饼：饼 B. 桃花：梨花：花
- C. 零售：网售：买 D. 水桶：铁桶：桶
8. 河长：河道巡查：水清岸绿
- A. 湖长：污染治理：波平浪静
- B. 路长：道路维修：车水马龙
- C. 机长：客机驾驶：安全准点
- D. 村长：带头致富：鸟语花香
9. 音乐 之于 () 相当于 () 之于 科学
- A. 乐音 学科 B. 舞蹈 数学
- C. 艺术 光学 D. 乐器 仪器
10. 风雨如晦 之于 () 相当于 () 之于 衣锦还乡
- A. 风雨飘摇 告老还乡 B. 风和日丽 背井离乡
- C. 云淡风轻 落叶归根 D. 和风细雨 荣归故里

二、图形推理

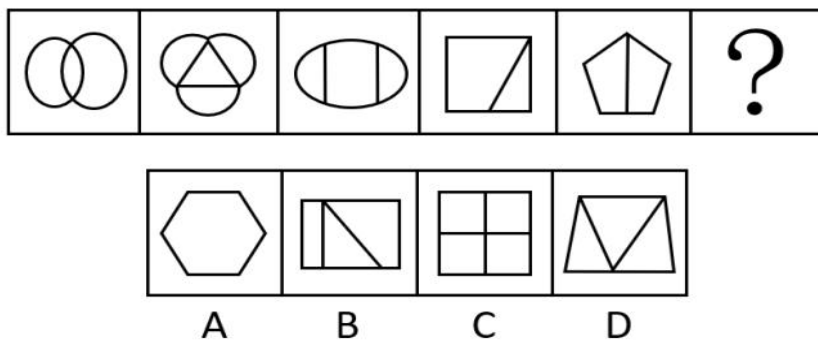
11. 请从所给的四个选项中, 选出最恰当的一项填入问号处, 使之呈现一定的规律 ()



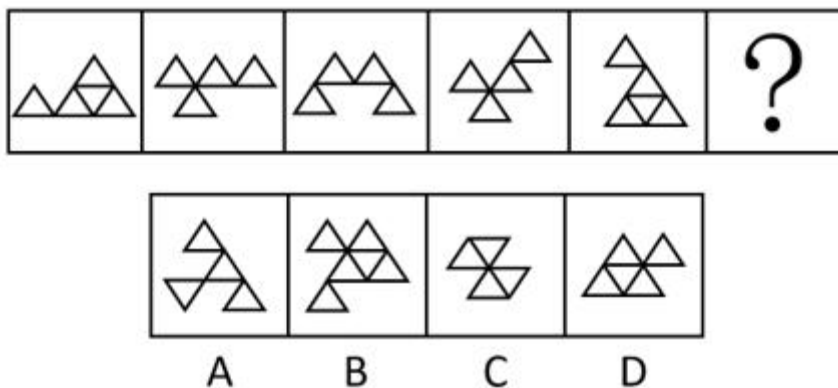
12. 从所给的四个选项中, 选择最合适的一个填入问号处, 使之呈现一定的规律性 ()



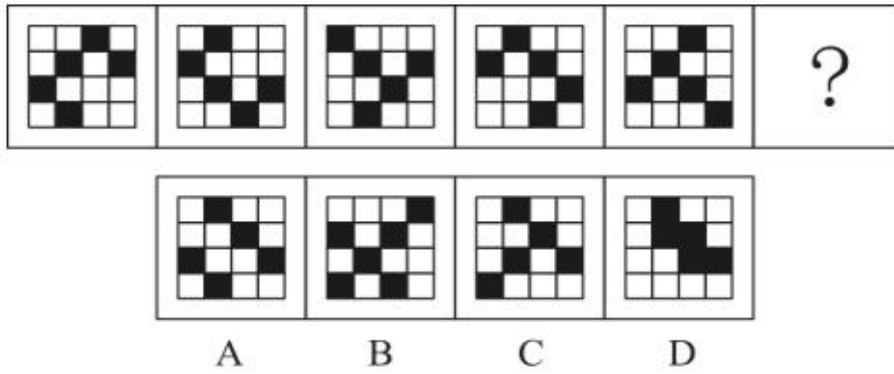
13. 从所给的四个选项中, 选择最合适的一个填入问号处, 使之呈现一定的规律性 ()




14. 从所给的四个选项中, 选择最合适的一个填入问号处, 使之呈现一定的规律性 ()



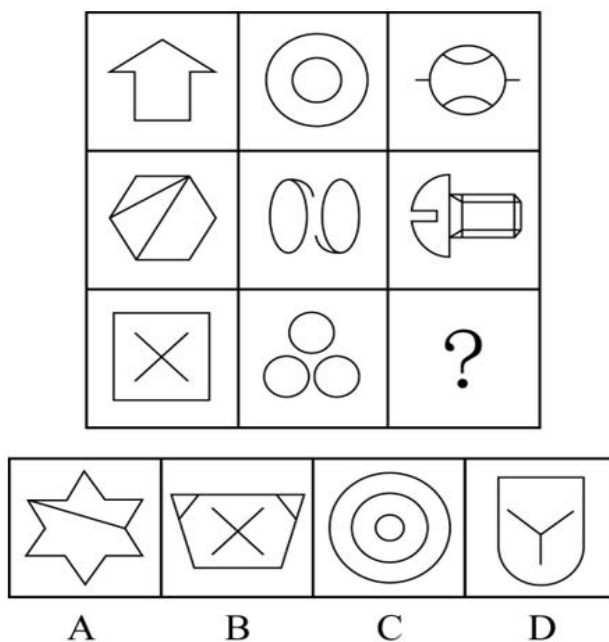
15. 请从所给的四个选项中, 选出最恰当的一项填入问号处, 使之呈现一定的规律 ()



16. 请从所给的四个选项中, 选出最恰当的一项填入问号处, 使之呈现一定的规律 ()

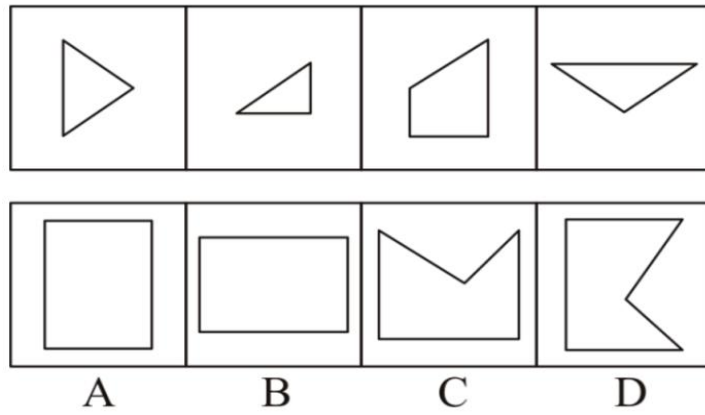


17. 请从所给的四个选项中, 选出最恰当的一项填入问号处, 使之呈现一定的规律 ()

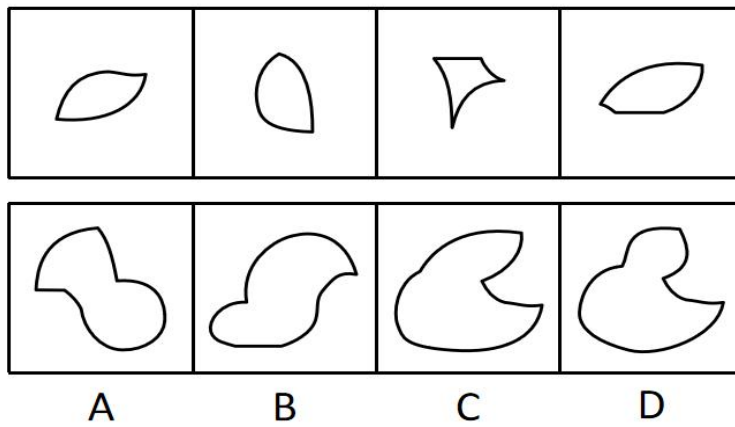


18. 下面四个图形中, 只有一个是上面四个图形拼合 (只能通过上、下、左、右平移)

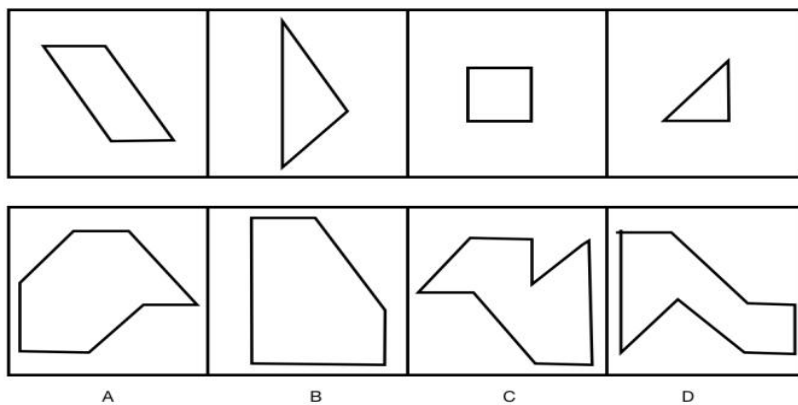
而成的，请把它找出来（ ）



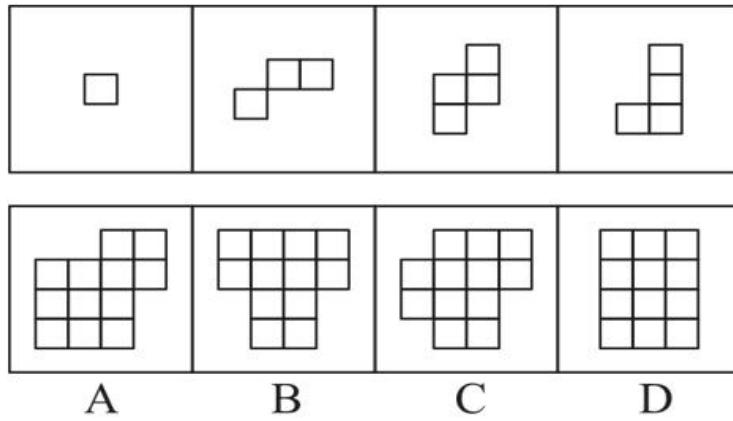
19. 下边四个图形中，只有一个是上边的四个图形拼合（只能通过上、下、左、右平移）而成的，请把它找出来（ ）



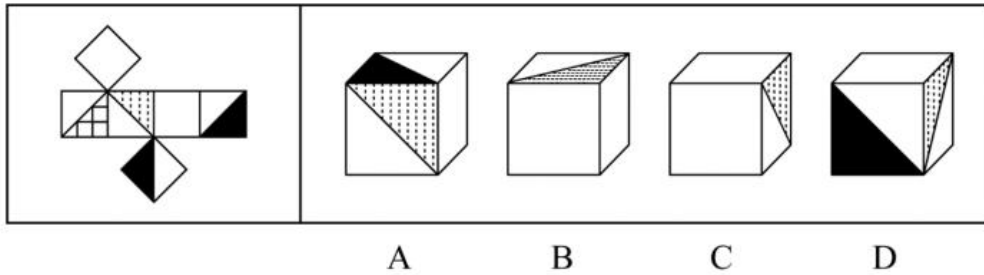
20. 下边四个图形中，只有一个是上边的四个图形拼合（只能通过上、下、左、右平移）而成的，请把它找出来（ ）



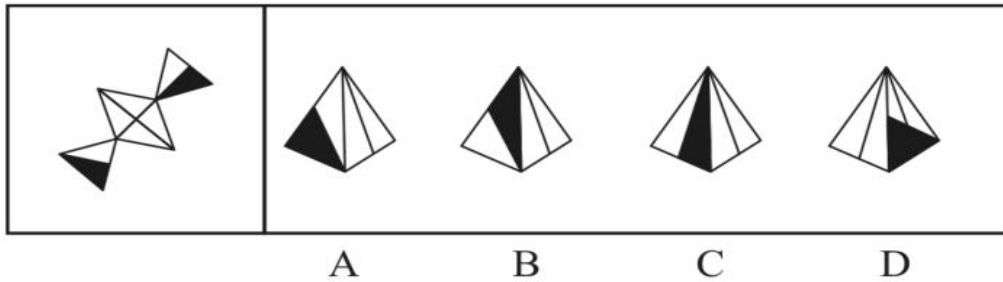
21. 下边四个图形中，只有一个是上边的四个图形拼合（只能通过上、下、左、右平移）而成的，请把它找出来（ ）



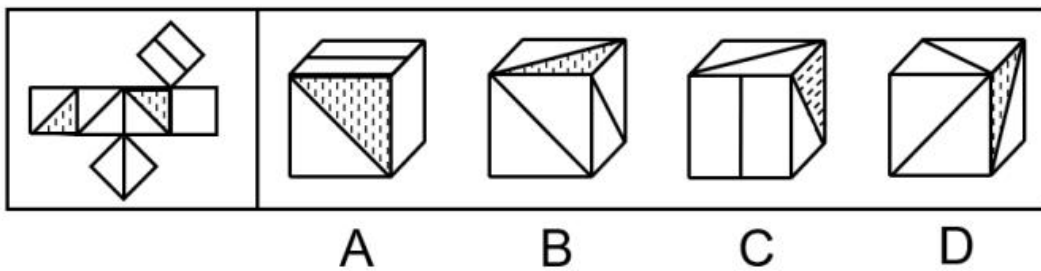
22. 左边给定的是多面体的外表面，右边哪一项能由它折叠而成？请把它找出来（ ）



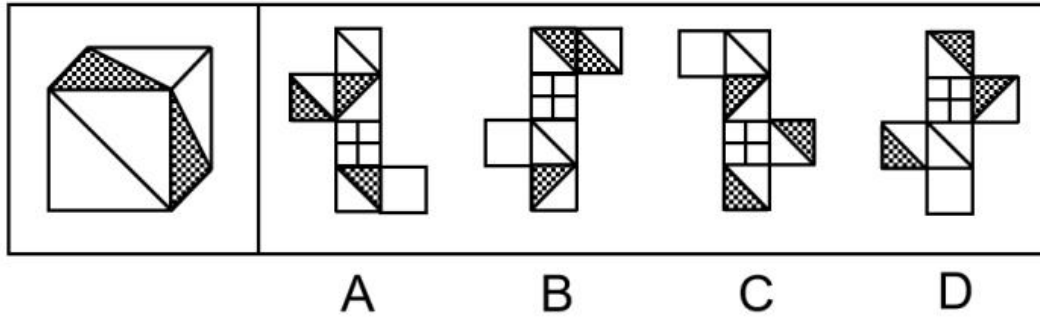
23. 左边给定的是多面体的外表面，右边哪一项能由它折叠而成？请把它找出来（ ）



24. 左边给定的是多面体的外表面，右边哪一项不能由它折叠而成？请把它找出来（ ）



25. 左边给定的是立方体，右边哪一项是它的外表面展开图？请把它找出来（ ）



三、逻辑判断

26. 脱贫致富终究要靠贫困群众用自己的辛勤劳动来实现。贫困群众既是脱贫攻坚的扶贫对象更是脱贫致富的主体力量，打赢脱贫攻坚战，必须大力激发贫困群众的内生动力。

根据以上陈述，可以得出以下哪项（ ）

- A. 脱贫致富的主体力量并非都是贫困群众
- B. 所有脱贫攻坚的扶贫对象都是脱贫致富的主体力量
- C. 如果大力激发贫困群众的内生动力，就能打赢脱贫攻坚战
- D. 如果没有激发贫困群众的内生动力，就不能打赢脱贫攻坚战

27. 在日常生活中，人们所说的“肉”往往特指来自猪、牛、羊等哺乳动物身上的肉，在营养学上这些肉被称为“红肉”，它们均含较多肌红蛋白，肉因而呈红色，显然，红肉并不包括鱼肉。吃红肉容易让人长胖，主要原因是肉中含有大量脂肪，脂肪摄入过多，不但增肥，而且还会严重影响人们的身体健康。基于这一考虑，很多家庭主妇表示，吃鱼肉要比红肉更健康。

以下哪项如果为真，最能支持家庭主妇的观点（ ）

- A. 世卫组织曾将红肉当作“疑似致癌物”，而将加工过的红肉当作“一级致癌物”
- B. 红肉含有多种对人体有益的铁、锌等元素，红肉中“瘦肉”的脂肪含量并不高
- C. 鱼肉中脂肪含量较低，蛋白质丰富，还特别富含对人体有益的多不饱和脂肪酸
- D. 有害物质甲基汞在鱼肉中总会找到一点，而在红肉中却找不到

28. 没有成家的人通常收入较低，因此要提高收入就要早点成家。

以下哪项和上述推理的谬误最为类似（ ）

- A. 获得校级资助的学生成绩一般更好，因此应该增加对学生的资助以提高学生成绩
- B. 成功人士的朋友往往比不成功的人士的朋友多，因此要想获得成功就要多交朋友
- C. 北极冰山融化的时候全球气温也相应升高，因此应该保护北极环境以避免全球变暖
- D. 冰淇淋销量高的时候一般犯罪率也高，因此可以通过减少冰淇淋销量来降低犯罪率

29. 甲、乙、丙、丁 4 位中学同学毕业 30 年后相聚。现在，他们已成为企业家、大学教师、歌手和会计师，且每人只有一种身份，并不重复。他们在中学时代就各人的未来职业有过如下预

言：甲：乙不会成为歌手；乙：丙会成为会计师；丙：丁不会成为企业家；丁：乙不会成为大学教师。现在看来，他们当中只有会计师的预言是正确的。

根据上述信息可以推断，甲、乙、丙、丁的职业分别是（ ）

- A. 企业家、大学教师、歌手、会计师
- B. 大学教师、歌手、企业家、会计师
- C. 企业家、歌手、会计师、大学教师
- D. 会计师、大学教师、歌手、企业家

30. 2020 年疫情肆虐，但电商直播逆势崛起，一季度全国电商直播超过 400 万场，“万物可播、全民可播”成为一个响亮的口号。一项针对消费者和商家的调查显示，在电商直播中，许多消费者能以优惠的价格购买到心仪的商品，商家也能提升其销售额。有专家据此推断，电商直播的商业模式在疫情过后仍会受到商家和消费者的追捧。

以下各项如果为真，则除哪项外均能削弱上述专家的观点（ ）

- A. 低价促销已经成为当前直播带货的常态，这种价格竞争让商家无利润可赚
- B. 直播带货往往造成线上线下的价格不一致，不利于商家维护企业品牌形象
- C. 许多消费者购买直播销售的商品后遇到了以次充好、售后维权困难等情况
- D. 个别带货主播为了利益常常夸大自己的销售数据，而消费者对此并不知情

31. 我国有关法律规定，大中型危险化学品生产企业与居民建筑物应至少保持 1000 米的安全红线，然而，随着城市的快速发展，很多原先地处偏远的危化品生产企业逐渐被居民区包围，一旦发生事故，会对周边居民的生命财产造成不可估量的损失。为防范危化品生产企业带给附近居民的风险，有专家建议在城市郊区设立化工园区，集中安置原本分散在城市各地的危化品生产企业，并严格遵守 1000 米安全红线规定。

以下哪项如果为真，最能质疑上述专家的建议（ ）

- A. 危化品在销售废弃等环节无法远离居民区，这些环节也有可能发生事故
- B. 新建化工园区设备先进，管理严格，入驻企业的前期运营成本将大幅提高
- C. 化工企业集中安置容易引发连锁事故，可能威胁到数千米之外的居民安全
- D. 许多危化品生产企业考虑到运输和销售的便利性，并不愿意搬迁到郊区来

32. 近日，某社区为活跃社区文化气氛，开展了一场别开生面的社区文化活动，有若干兴趣社团供居民选择。已知报名情况如下：（1）居民在诗词社和书法社中至少参加了一个；（2）居民如果参加了诗词社，则没有参加合唱团；（3）李女士参加了合唱团。社区主任知道上述情况后断定，李女士也参加了戏迷社。

以下哪项如果为真，可以成为社区主任断定所需的前提（ ）

- A. 李女士没有参加诗词社 B. 参加了戏迷社的也参加了书法社
C. 李女士没有参加书法社 D. 不参加戏迷社的都不参加书法社

33. 近日，某些城市上线了“随手拍交通违法”小程序，市民可以将自己拍摄的机动车闯红灯、违停等各类违法行为的照片或者视频，通过该小程序实名上传并进行举报。对于所举报的交通违法行为一经核实，相关部门会给予举报人奖励。有专家由此断定，“随手拍交通违法”可以有效扩大交通监督的范围，形成警民共治的局面。

以下哪项如果为真，最能支持上述专家的断定（ ）

- A. 交警部门的执法力量相对有限，不足以应对现实生活中大量交通违法的行为
B. 国家有关法律明令禁止闯红灯，违停等交通违法行为，并有相应的处罚规定
C. 有些地方出现过举报人信息被泄露的案例，保护举报者个人隐私已刻不容缓
D. “随手拍交通违法”小程序上线以来，有关部门已接到大量交通违法行为举报

34. 某村青年甲、乙、丙、丁、戊 5 人到某房屋维修公司应聘。根据各自专长，他们 5 人被聘为焊工、瓦工、电工、木工和水工。已知他们每人只做一个工种，每个工种均有他们 5 人中的 1 人做，另外还知道：（1）如果甲做焊工，则丙做木工；（2）如果乙和丁两人之一做水工，则甲做焊工；（3）丙或做瓦工，或做电工。

如果戊做瓦工，则可以得出以下哪项（ ）

- A. 甲做水工 B. 甲做木工
C. 乙做木工 D. 乙做焊工

35. 某村青年甲、乙、丙、丁、戊 5 人到某房屋维修公司应聘。根据各自专长，他们 5 人被聘为焊工、瓦工、电工、木工和水工。已知他们每人只做一个工种，每个工种均有他们 5 人中的 1 人做，另外还知道：（1）如果甲做焊工，则丙做木工；（2）如果乙和丁两人之一做水工，则甲做焊工；（3）丙或做瓦工，或做电工。

如果丁做电工，则可以得出以下哪项（ ）

- A. 甲或做焊工，或做水工 B. 乙或做焊工，或做木工
C. 丙或做木工，或做焊工 D. 戊或做水工，或做焊工

四、定义判断

36. 百姓讲师：指基层单位选用普通群众，用喜闻乐见的形式宣传党和政府的方针政策。

下列属于百姓讲师的是（ ）

- A. 镇政府经常邀请熟悉乡情乡风的村民为新入职的干部介绍农村基本情况，讲解在农村落实上级政策的办法
B. 村支书记老陈每天准时收看《新闻联播》，通过和村民聊天宣传党和国家的方针政策，

并解答他们的疑问

C. 朱老师退休后长期走街串巷，宣传移风易俗、乡村振兴的道理，被乡政府授予“乡村文化名人”称号

D. 市民蒋先生受街道办委托把新医保政策编成快板，并录成视频，每天都发布在微信公众号及朋友圈中

37. 探究学习：指学生通过亲身实践，相对独立地做出发现，由此获得科学活动实践体验和经验的学习方式。

下列属于探究学习的是（ ）

A. 在李老师数形结合的精彩演示后，小吴加深了对勾股定理的理解认识

B. 借助高速摄影技术，小张和同学们观察到越重的物体自由下落的速度越快

C. 经过一周反复观察，小朱发现办公室墙上的时钟每天比标准时间慢 2 分钟

D. 在反复确认没有危险后，牛牛终于勇敢地推开轮椅，迈出了人生第一步

38. U 盘化生存：只凭借个人技能而不依赖组织内的身份，自主决定是否参与社会协作，完全由市场评判其个人价值的生存方式。

下列不属于 U 盘化生存的是（ ）

A. 小韩大学毕业后，曾在多家培训机构当过数学老师，她总是感觉这样工作收入虽然高，但是太辛苦了，前不久，她没有同家人商量，就自作主张进了一所民办中学

B. 网络写手周女士根据自己之前的职场经历写出了多部网络畅销小说，多家著名网站慕名向她约稿，由于不愿受交稿日期的限制，她经常会拒绝一些约稿

C. 木匠老周进城打工十年多了，活儿干得很好，挣了不少钱，现在他有了自己的装修队，每天从早到晚都有人找他联系装修的事

D. 从单位辞职后，刘先生夫妇来到南方，将租下的一栋小楼改造成了民宿。在他们精心打理下，生意十分红火，客房一度需要提前两个月预定

39. 共享用工：指企业在特殊时期，为了降低人力成本或解决人工短缺问题，通过借用或外派员工实现劳动力共享的临时用工方式。

下列属于共享用工的是（ ）

A. 为节省成本支出，某广告公司长期通过创客网站发包设计任务，并与一些水平较高的自由创客人员签订了合作协议，建立了密切的业务关系

B. 某公司正在扩大生产经营规模，急需大量技术人员，通过线上线下相结合的形式，招聘一批兼职技术人员，既解决了无人可用的燃眉之急，又节约了用人成本

C. 疫情期间，某生鲜电商平台订单激增，该平台与当地的餐饮、酒店等行业的数十家公司

进行协商合作，利用他们派来的员工，缓解了自身的用工压力

D. 某高校在科研项目攻关过程中遇到研发人员不足的问题，于是借用多家单位的科研人员组成联合攻关团队，终于成功解决了一系列技术难题

40. 能力陷阱：人们总是喜欢做比较擅长的、能够带来自信心和满足感的事情，是由此而造成某种单一能力强化和其他能力弱化，难以适应社会变化对能力的新要求。

下列属于能力陷阱的是（ ）

A. 小李博士毕业后在一所大学任教，不到五年就评上了副教授。近两年来，他的工作越来越忙，成果越来越多，一直没时间考虑成家的事

B. 老张修了多年自行车，小日子过得有滋有味。这两年，来修自行车的人越来越少，收入大不如前，他几次尝试学习摩托车修理都没学会，现在只能给电动车补胎

C. 林先生整天忙着扩大经营规模，连锁店越开越多，效益越来越好，但他对日常生活琐事既不擅长也不关心，购物、做饭、打扫卫生等家务均由妻子承担

D. 王师傅擅长淮扬菜，在江苏小有名气，到四川后很快就发现没有用武之地了，于是他花了半年时间，终于学会了川菜的做法，虽然不够正宗，他自己却很满意

41. 闭环思维：指工作学习过程中用各种方式的提示、应答使每个操作环节形成封闭的环，以利于实时把握进程、及时调整方向的一种思维方式。

下列不属于闭环思维的是（ ）

A. 赵教练每次收到学员发来的信息时，都会给予答复并习惯性地发送一个表情，他的手机里存了很多张风格各异的应答图片

B. 钱先生每次给下属布置任务，都要求他们尽快回复信息，包括是否收到、能否完成、什么时候完成等，与他共事的人都感觉很有压力

C. 小孙刚到单位时，领导安排的任务他总是很爽快地答应下来并想方设法去完成。半年后，工作越来越忙，他发现有些任务很难完成，再也不敢随意应承了

D. 经理要求小李一周内草拟一个工作计划。经过认真调研，小李完成了计划书并用电子邮件发给了经理。十几天后经理特意问他：计划书写好了吗？小李惊讶地说：我早已发给你了

42. 数字困境：指老年人由于生活习惯、文化水平等因素，不熟悉数字化产品的使用方法，给日常生活带来困扰的现象。

下列不属于数字困境的是（ ）

A. 小高为父母安装了网络电视，由于操作太复杂，父母总是找不到想看的频道，只好把旧电视机重新搬了出来

B. 疫情期间各种公共场所都必须出示健康码，由于老孙不会使用智能手机，每次外出都会

遇到不少麻烦

C. 老陈的手机开通了移动支付功能，却从没使用过，虽然偶尔也会遇到一些麻烦，但他觉得这些没什么大不了

D. 医院早已开通了网络预约挂号，但是患慢性病多年的老钱不会上网，每次都得到医院窗口排队挂号

43. 科学预测：指基于已掌握的规律，通过科学分析和预测，对未来可能发生的现象，作出允许质疑及检测的推测。

下列属于科学预测的是（ ）

A. 旅行团导游提醒大巴司机：明天是周末，出城的车子太多，路上很可能出现严重的拥堵现象，要想按时到达目的地，至少得提前半小时出发

B. 某地发生了一起刑事案件，警察迅速对犯罪现场进行仔细勘查，根据收集到的信息材料，很快确定并抓获了犯罪嫌疑人，仅用了 3 小时就破了案

C. 电视台的天气预报节目中，播报员都会例行性地对未来十天的天气变化情况进行简要预报，有时还会请气象专家对天气变化原因作出分析

D. 老胡刚拿到体检报告，发现有几个指标不正常，极为紧张，忙去找医生，医生看过体检报告后告诉他：“超标情况不严重，注意休息，很快就会恢复正常”

44. 词义转移：指词语原本具有的意思后来变成了相关联的另一种意思的词义变化现象。

下列属于词义转移的是（ ）

A. “兵”最早指武器，现在通常指拿武器的人，即士兵

B. “臭”在古代指难闻的气味，也可以指好闻的气味

C. 在古代“河”专指“黄河”，现在也可以指其他河流

D. 今天所称呼的“老师”，古代有时候叫做“先生”

45. 逆向文化冲击：指旅居他乡者回到故国或故乡后，短时间内在生活、心理等方面难以适应本土文化的现象。

下列不属于逆向文化冲击的是（ ）

A. 大卫在中国从事英语培训工作 10 多年，回国后感到很不习惯。他在不久前的一段视频中抱怨说：半夜饿了，在中国拿出手机点个外卖，半个小时就送到了，而这里啥都没有，只能饿死在去超市的路上

B. 在城里生活多年的老杨，今年春节回到农村老家后，亲戚朋友请他到附近饭店吃饭。开席后，他习惯性地让服务员去拿公筷、公勺，服务员惊讶地看着他，半天没反应过来，亲戚们也觉得他怪怪的

C. 留学刚回国的小吴约朋友去青岛看海，因为没有 12306 账户，只得请朋友帮忙购票。上车后他惊讶地发现，高铁上不仅可以扫码点餐，还可以点外卖，自己头天准备的面包、饼干一点没用上。他感觉自己在朋友心目中简直就像个弱智

D. 欧洲姑娘玛丽来华留学，虽然早已听说过中国的无现金支付，第一周她还是惊呆了：楼下卖红薯的大爷都在用“互联网”，菜市场的每个摊位上居然都有收款二维码，更不要说超市和商场了

2021 年江苏行测 B 类

一、类比推理

46. 就诊：病愈

- A. 跑步：娱乐 B. 刷牙：美容
C. 投资：盈利 D. 禁捕：生态

47. 花：鸟：杜鹃

- A. 戏：剧：昆曲 B. 钟：表：秒表
C. 草：木：植物 D. 人：畜：黄牛

48. 国家：治理：现代化

- A. 企业：规制：自动化 B. 社会：建设：法治化
C. 社区：服务：数字化 D. 政府：管理：一体化

49. 小岗村：村：安徽

- A. 石家庄：庄：河北 B. 驻马店：店：河南
C. 景德镇：镇：江西 D. 洪泽湖：湖：江苏

50. 大豆 之于 () 相当于 原木 之于 ()

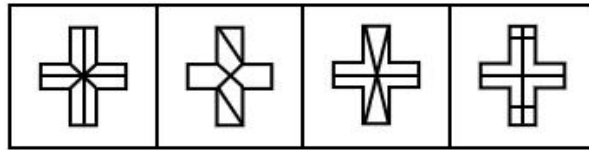
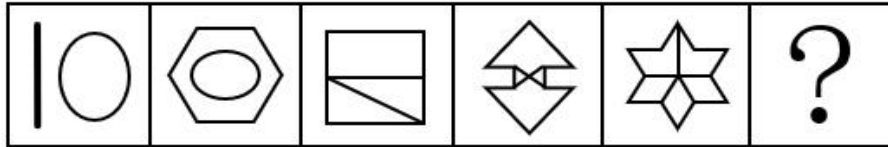
- A. 豆豉 木炭 B. 豆芽 桐木
C. 红豆 檀木 D. 豆腐 木桶

51. 球员 之于 () 相当于 () 之于 蜂群

- A. 球队 工蜂 B. 球赛 采蜜
C. 领队 蜂王 D. 球场 蜜源

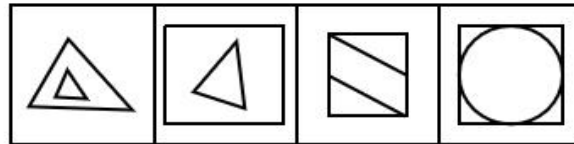
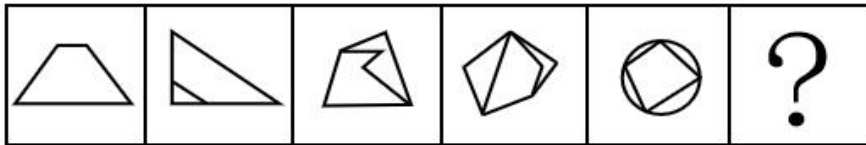
二、图形推理

52. 从所给的四个选项中，选择最合适的一个填入问号处，使之呈现一定的规律性 ()



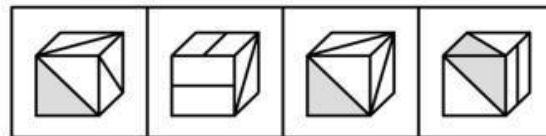

A B C D

53. 从所给的四个选项中, 选择最合适的一个填入问号处, 使之呈现一定的规律性 ()



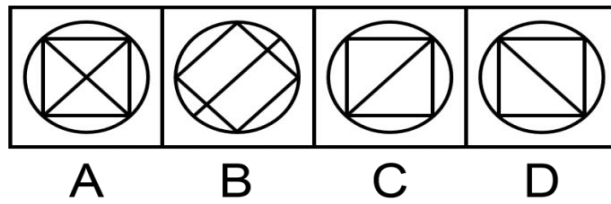
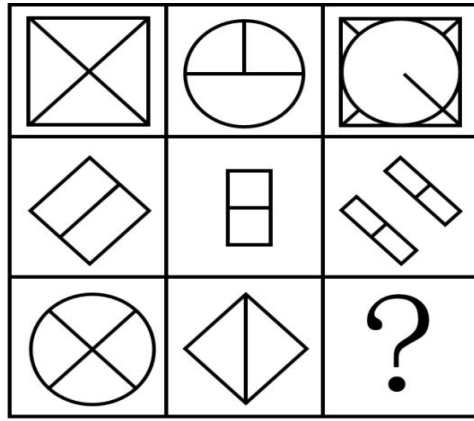
A B C D

54. 从所给的四个选项中, 选择最合适的一个填入问号处, 使之呈现一定的规律性 ()

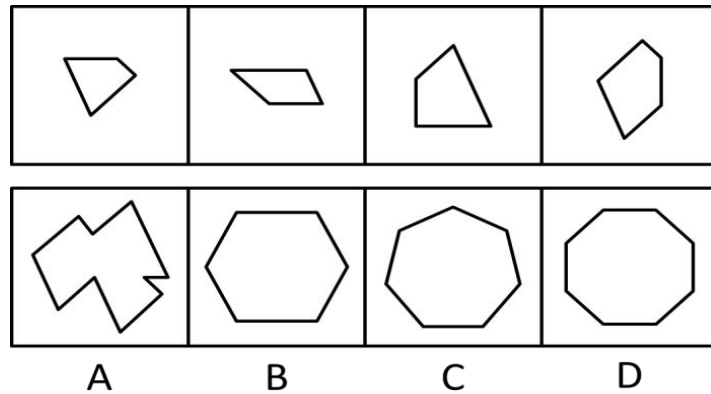


A B C D

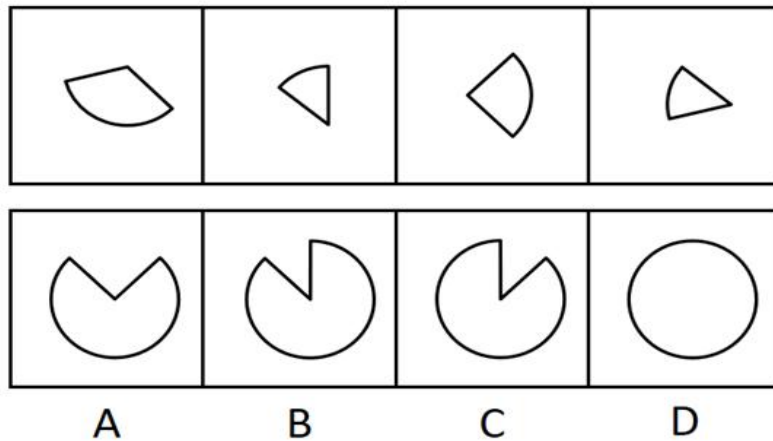
55. 从所给的四个选项中, 选择最合适的一个填入问号处, 使之呈现一定的规律性 ()



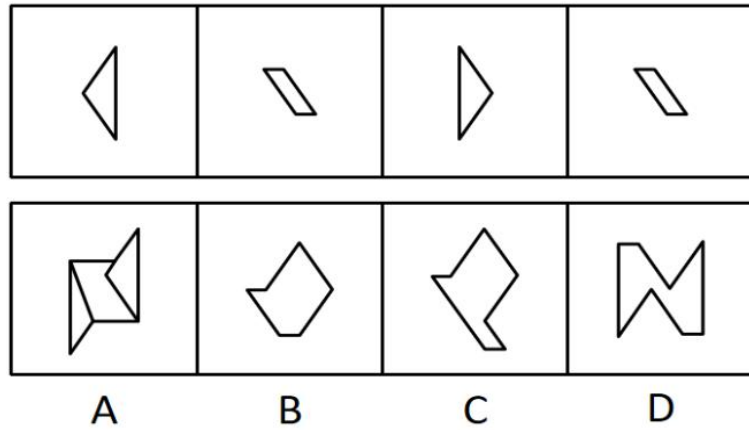
56. 下面四个图形中，只有一个是 由上面的四个图形拼合（只能通过上、下、左、右平移）而成的，请把它找出来（ ）



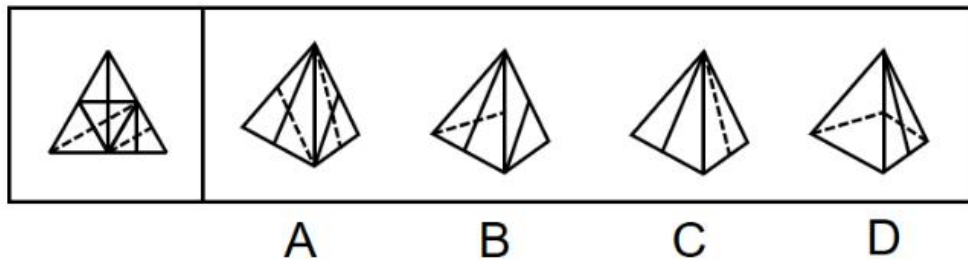
57. 下边四个图形中，只有一个是 由上边的四个图形拼合（只能通过上、下、左、右平移）而成的，请把它找出来（ ）



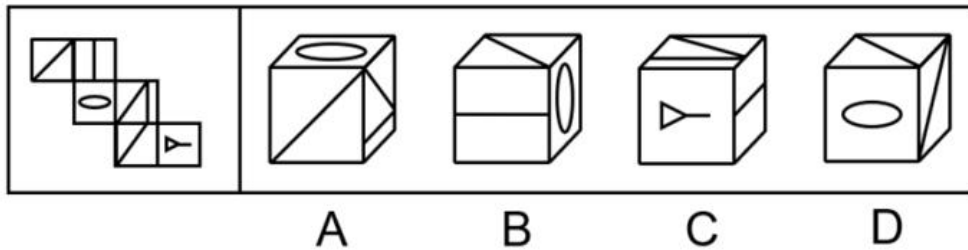
58. 下边四个图形中，只有一个是 由上边的四个图形拼合（只能通过上、下、左、右平移）而成的，请把它找出来（ ）



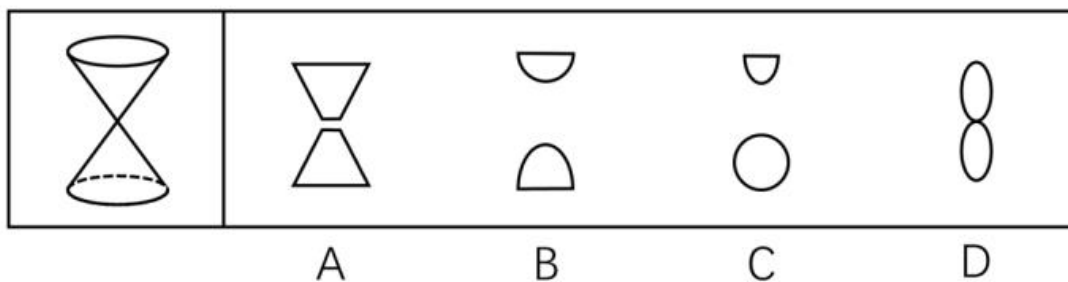
59. 左边给定的是多面体的外表面，右边哪一项能由它折叠而成？请把它找出来（ ）



60. 左边给定的是多面体的外表面，右边哪一项能由它折叠而成？请把它找出来（ ）



61. 左边为给定的立体图，从任意角度剖开，右边哪一项可能是它的截面图（ ）



三、逻辑判断

62. 任何企业存在于社会之中，都是社会的企业。社会是企业家施展才华的舞台。只有真诚回报社会、切实履行社会责任的企业家，才能真正得到社会认可，才是符合时代要求的企业家。

根据以上陈述，可以得出以下哪项（ ）

- A. 企业家如果符合时代要求，就会真正得到社会认可
- B. 企业家如果施展才华，企业就会长期存在于社会之中

C. 企业家如果真诚回报社会，就是符合时代要求的企业家

D. 企业家如果没有切实履行社会责任，就不会真正得到社会认可

63. 古人云：立善法于天下，则天下治；立善法于一国，则一国治。

以下哪项与上述古人说法的形式结构最为相似（ ）

A. 民生在勤，勤则不匮

B. 穷则独善其身，达则兼济天下

C. 明者因时而变，知者随事而制

D. 俭则约，约则百善俱兴；侈则肆，肆则百恶俱纵

64. 某大学张、刘、李、赵 4 位互不熟悉的选手参加全校演讲比赛。他们来自数学、逻辑、文学和历史专业。赛前 4 人分别作出了如下猜测：张：赵的专业是逻辑；刘：李的专业是文学；李：张的专业不是数学；赵：刘的专业是历史。事后得知，只有数学、逻辑专业选手的猜测是正确的。

根据上述信息可以推断，张、刘、李、赵 4 人各自的专业分别是（ ）

A. 数学、逻辑、文学、历史

B. 数学、历史、文学、逻辑

C. 文学、历史、逻辑、数学

D. 历史、文学、逻辑、数学

65. 从 2019 年 5 月 1 日至 2019 年底，某机构统计的新能源车辆事故共计 113 起，着火事故占有一定比例。在着火事故车辆中，乘用车占比达到，专用车次之，公交车最低。这说明，在新能源车辆中，乘用车的安全性大大低于专用车和公交车。

以下哪项如果为真，最能质疑上述结论（ ）

A. 新能源汽车中乘用车的利润最高，企业对其安全性设施的研发投入也最高

B. 新能源专用车和公交车的司机一般驾龄较长、水平较高，出车事故率较低

C. 在新能源汽车的着火事故中，乘用车的伤亡人数远远少于专用车和公交车

D. 据该机构统计，新能源专用车和公交车保有量不到新能源汽车总量的

四、定义判断

66. 城市文化客厅：指城市利用商圈、地铁、机场等处的小型公共空间举办艺术、历史、民俗等方面的常态性文化休闲活动，让市民和八方来客共享的场所。

下列不属于城市文化客厅的是（ ）

A. 某市中心步行街最近举行了十周年庆典活动，亲子类节目沉浸式戏剧展演以及深受学生喜爱的二次元展、电竞展，吸引了很多年轻一族前来“打卡”

B. 某市图书馆附近的广场上，陈列了多组以昆曲、扬剧、锡剧、淮剧为主题的形态各异的雕塑，每到周末前来观赏的市民络绎不绝

C. 某市中心地下过街通道的墙壁上最近换上了记录近百年来城市发展变化的老照片，它与周边的会展中心、大剧院、科技馆等新建筑群形成强烈对比

D. 某机场近年来在候机大厅举办多场小型非遗作品展，四面八方的旅客在候机之余感受、体验到了中华传统文化的魅力

67. 词义泛化：指某个词语本来专指某种特定的事物或现象，后来可以泛指相关的多个事物或现象。

下列属于词义泛化的是（ ）

A. 古代的称谓词语“父”，现在一般用“父亲”表示

B. “河”在古代专指“黄河”，现在也可以指其他河流

C. “恨”在古代既可以表示痛恨，也可以表示遗憾，现在通常表示痛恨

D. 汉代以前的“涕”，本来专指眼泪，后来一般指鼻涕，有时也可以指泪水

68. 双塔效应：指两个实力雄厚的相邻经济体强强联合，利用各自的集聚辐射能力，共同带动周围区域发展的现象。

下列属于双塔效应的是（ ）

A. 某市围绕“精准定位消费人群、打造特色商业体”的要求，以市区著名商圈为轴心，推动商业布局错位竞争，建成了商务、文化、居住等不同功能区

B. 某区域两个特大城市利用优越的区位条件，按照“发挥优势、取长补短、互惠互利”的原则，经过多年努力，在科技、文化、工业等方面形成了国内领先的优势

C. 某市为了加快经济发展，将经济基础雄厚、发展空间有限的核心区与基础薄弱但发展潜力巨大的城郊区进行了区域整合，城市综合实力很快有了显著提升

D. 某市国家级创新产业园成立之初，重点培育信息和医药两大产业，吸引多家世界 500 强企业入驻，进一步促进了本市产业转型升级，提升了城市的整体竞争力

69. 内涵型消费升级：指个人在消费转型过程中物质消费趋于克制、精神消费趋于丰富的行为。

下列属于内涵型消费升级的是（ ）

A. 某高档写字楼的一些白领，午餐大都舍弃排场的桌餐，而选择性价比高的快餐，他们觉得这样就餐既安全、卫生，还节省了宝贵的时间

B. 赵先生偏爱旅游，在到达目的地前，短途交通、中转过夜，绝不会选择豪华的舱位、车辆或酒店。到达之后，为了体验当地文化、感受地域特色，他很舍得花钱

C. 小马以前喜欢追求时尚，看到中意的新潮服装就毫不犹豫地买下，常入不敷出。现在她几乎不买什么衣服了，用省下的钱与家人一起运动、娱乐

D. 某书城以前只销售图书，现在还为公众提供主题文化活动空间，顾客可以亲手设计文具，定制刻有自己姓名的水杯，选购与阅读主题有关的装饰小摆件

70. 信息疫情：指事件传播过程中掺杂了影响判断和认知的不实信息，这些信息可能给人们带来消极影响，甚至危害身心健康。

下列不属于信息疫情的是（ ）

A. 某地发生多人腹泻、发烧现象，有人说大蒜可以预防，也有人说白醋可以治疗，短短几天时间，大蒜、白醋在当地超市脱销，后来这些传言都被证实是无稽之谈

B. 一村民在微信群里说，他家院子里的老井最近水温突然升高，其他村民议论纷纷，有人说，三天以内肯定要发生大地震，许多村民连续一周都不敢在室内睡觉

C. 王先生一直在向朋友抱怨，五年前购房时听很多人说自家小区附近很快就会开一家大型超市，地铁也会在那里设一个站点，可是到现在却没有一点动静

D. 某山区连日暴雨，巡山员发现山上有小石头滚落，估计将发生山体塌方，立即通知村民撤离，半信半疑的村民刚刚全部搬出村子，滑落的山体就摧毁了村民房屋

71. 凡尔赛文学：指在各种公开场合用先抑后扬、明贬暗褒的手法，故作低调，实则自我炫耀的说话方式。

下列属于凡尔赛文学的是（ ）

A. 邻居家的电脑出了故障，打来电话求助。李先生告诉他：“我对电脑真是一窍不通，平时出了问题，都是秘书帮着解决的，我自己一点办法也没有”

B. 刘先生经常向别人讲述：“我一点也不擅长写作，去年随手把高中时写的一篇小说投到网络平台，没想到点击量超百万，到现在我都不明白这是怎么回事”

C. 朋友们很羡慕郑先生良好的生活习惯，他多次解释原因：小时候家里很穷，晚上经常一碗稀粥就权当晚餐，为了不挨饿，只好早睡早起，就养成了这样习惯

D. 小张向参加聚会的高中同学说：“我家住在小山脚下，附近没有几户人家，周围很幽静，有时会有松鼠闯进后院，只是离市中心有点远，交通不太方便”

72. 隐性管理：指通过引导、支持或服务等行为，对员工施加非制度性影响以达到预期目标的管理方式。

下列属于隐性管理的是（ ）

A. 为了丰富员工的业余文化生活，某公司专门成立了羽毛球协会，定期举办相关活动，不久以后大多数员工的羽毛球水平都有了明显提高

B. 迟到早退是困扰公司多年的老大难问题，今年初公司安装了门禁系统，经理每天带头准时打卡上班，一段时间后，几乎再也看不到员工迟到早退

C. 小李因家庭纠纷，工作时情绪低落，单位领导得知情况后多次与他沟通交流，解开了他心中的疙瘩，现在小李的工作比以前更出色了

D. 某企业办公楼装修完后，在楼外各个角落安装了十多个摄像头，既解决了安全问题，又解决了长期以来员工乱扔垃圾、乱停私家车的问题

73. 网络社交消费：指在网络社交过程中对某商品产生即兴消费欲望，借助社交平台链接完成购买行为的一种消费方式。

下列属于网络社交消费的是（ ）

A. 小夏在微博上看到一篇介绍某品牌跑步机的文章，感觉很对自己的胃口，毫不犹豫地点赞并通过博文后面的网址购买了一台

B. 果蔬团购微信群中可以定时秒杀群主发布的低价产品，也可以预定自己想要的品种，既便捷又实惠，小李是这些活动的常客

C. 歌手小兰上传了一个翻唱经典老歌的短视频，她在视频中戴的船形帽迅速走红，“歌手小兰爆款船形帽”成为网络热搜词，在各大购物网站上卖到断货

D. 某甜品店的订餐卡上印有自己的公众号，顾客关注该公众号订购甜品比外卖平台还要便宜并且可以免费送货

74. 舆论碰瓷：指用出格的言行举止故意挑起事端或争议，以引起舆论关注的逐利行为。

下列属于舆论碰瓷的是（ ）

A. 张教授发现一部新出的著作与自己的专著内容多有雷同，就向法院提起诉讼，并接受了一些媒体的专访

B. 蒋某经常对妻子实施家暴，妻子将遭遇向蒋某单位和社区领导作了反映，不料妻子故意将事情闹大，让他没脸做人

C. 沉寂多年的某歌星，最近在娱乐网站不时爆出自己与多人的暧昧关系，引发了圈内外的轩然大波后，突然宣布已准备好重返歌坛

D. 某厂拖欠工人数月工资，工人多次讨要无果，到政府信访部门反映。有关部门准备约谈厂领导，厂长出面支付了拖欠的工资

2021年江苏行测A类

一、类比推理

75. 调查：求真

A. 晨练：健身

B. 施肥：收割

C. 记忆：怀念

D. 备份：复制

76. 头雁：雁阵

- A. 蜂王：蜂巢
- B. 猎狗：羊群
- C. 蚁后：工蚁
- D. 狮王：狮群

77. 粮食安全：国家安全

- A. 传统文化：中国文化
- B. 家庭和谐：社会和谐
- C. 主流媒体：纸质媒体
- D. 地摊经济：马路经济

78. 微信群 之于 () 相当于 () 之于 教学

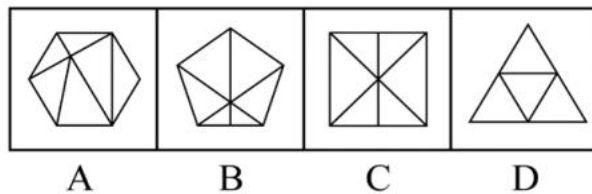
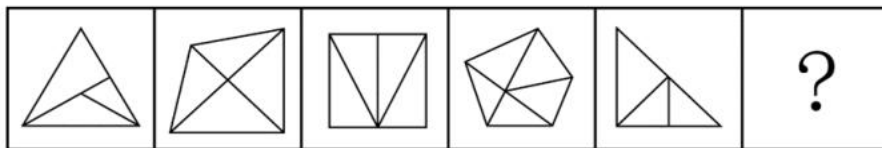
- A. 符号 黑板
- B. 点赞 教师
- C. 社交 教室
- D. 红包 奖励

79. 水车 之于 () 相当于 () 之于 计算器

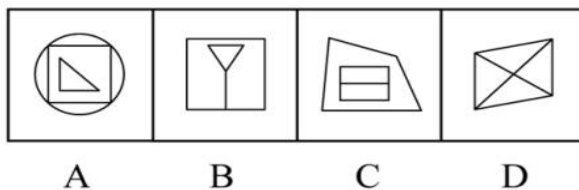
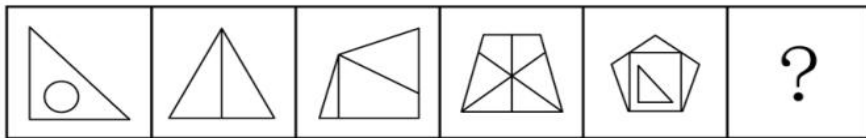
- A. 风车 口算
- B. 稻田 计算
- C. 河水 数据
- D. 水泵 算盘

二、图形推理

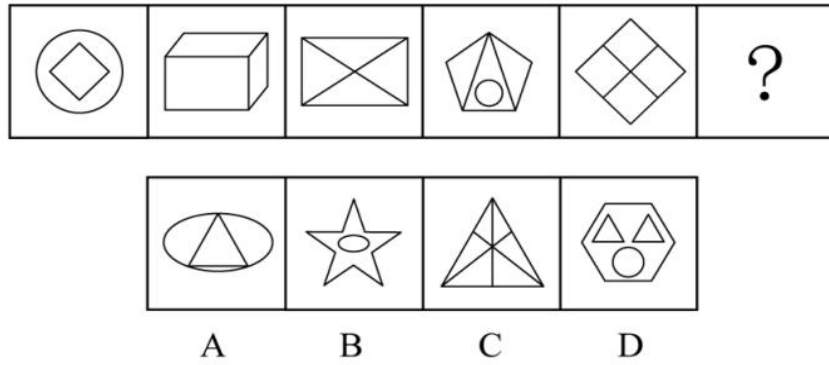
80. 请从所给的四个选项中，选出最恰当的一项填入问号处，使之呈现一定的规律 ()



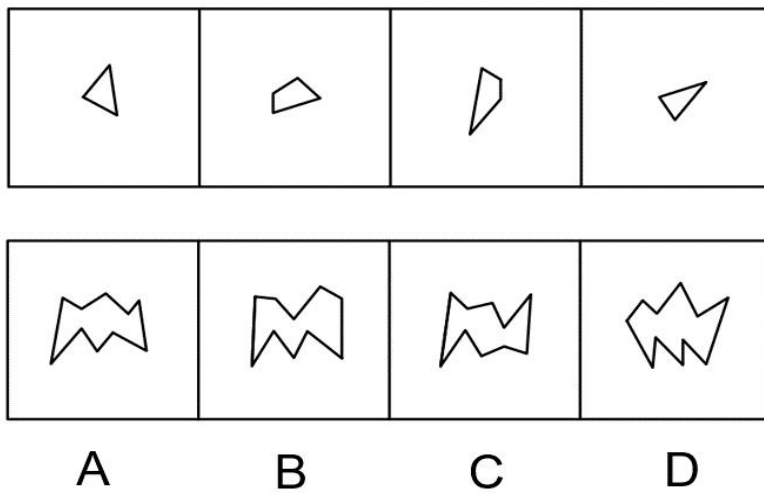
81. 请从所给的四个选项中，选出最恰当的一项填入问号处，使之呈现一定的规律 ()



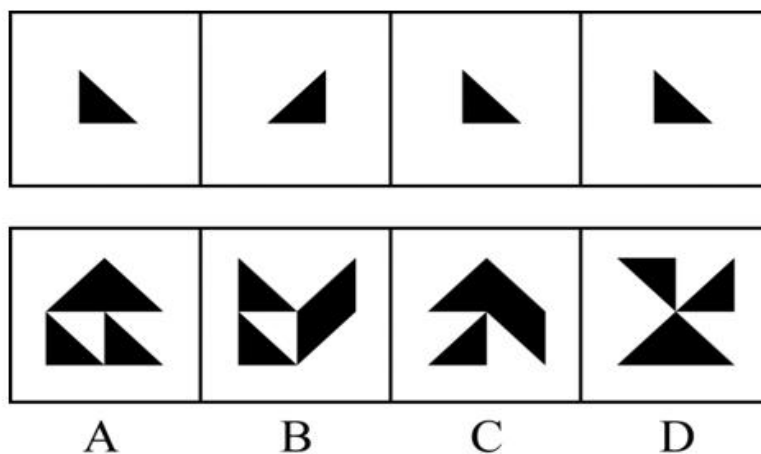
82. 请从所给的四个选项中，选出最恰当的一项填入问号处，使之呈现一定的规律 ()



83. 下边四个图形中，只有一个是上边的四个图形拼合（只能通过上、下、左、右平移）而成的，请把它找出来（ ）



84. 下边四个图形中，只有一个是上边的四个图形拼合（只能通过上、下、左、右平移）而成的，请把它找出来（ ）



四、逻辑判断

85. 人无精神则不立，国无精神则不强。精神是一个民族赖以长久生存的灵魂，唯有精神上达到一定的高度，一个民族才能在历史的洪流中奋勇向前。

根据以上陈述，可以得出以下哪项（ ）

- A. 人有精神则立，国有精神则强
- B. 一个民族如果精神上没有达到一定的高度，就没有赖以长久生存的靈魂
- C. 一个民族若在历史的洪流中奋勇向前，则精神上已达到一定的高度
- D. 一个民族如果精神上达到一定的高度，就会在历史的洪流中奋勇向前

86. 最近，一些海洋考古人员在地中海卡梅尔海岸附近的海底发现了一堵约 100 米长的巨型石墙。尽管石墙上没有留下任何文字符号，历史上也没有留下关于这堵石墙的任何记录，考古人员仍然通过对散落在石墙附近的木桩、石碗和兽骨等物品的测定，认为石墙是 7000 年前人类创造的遗迹。它的用途究竟是什么？由于当时敌人很难来自海上，研究人员推断，当时这里的人们筑起石墙，主要是为了避免海水上涨后淹没村庄。

以下哪项如果为真，最能支持上述研究人员的推断（ ）

- A. 7000 年前，地球正处于冰河期结束前期，地中海海平面每年抬升 4 至 7 毫米
- B. 石墙之后发现有人类定居点的遗迹，现在它们都被海水淹没在三四米深的海底
- C. 考古发现的石墙虽然只有 100 米长，但算上损毁部分，其长度足够包围定居点
- D. 今天的人类同样面临海平面上升的风险，有的国家也采取筑墙防御的应对策略

87. 一般认为，7 万多年前的多巴火山喷发造成了全球气候变冷及环境恶化，并最终导致热带非洲以外地区人类的灭绝。近期一项对现生人群的基因研究认为，约 6 万年前至 5 万年前之间曾有一次非洲人群替代其他地区人群的过程，关于现代人的起源，“完全替代假说”是成立的，即非洲人是其他地区人群的直接祖先。

以下哪项如果为真，最能质疑上述研究人员的论证（ ）

- A. 多巴火山喷发后，热带非洲以外的地区仍有人类活动
- B. 多巴火山的喷发短时间内仅对附近地区造成毁灭性的影响
- C. 距今 10 万年前至 4 万年前，东亚地区的人类演化链条从来没有中断过
- D. 尼安德特人在 2 万年前至 3 万年前已经灭绝，但现存智人仍保留他们的基因

88. 当前，很多高校规定研究生毕业之前必须发表一定数量的学术文章，并将其与学位获得资格挂钩。校方认为，研究生学习期间发表论文，有利于提高其学术水平，增强其学术能力，既能实现人才培养的目标，又能扩大学校的知名度。然而，最近某高校取消了研究生论文发表与学位获得资格挂钩的规定，受到许多研究生导师的认同。他们认为，这一规定更有利于培养该校研究生的学术能力。

以下哪项如果为真，最能支持上述研究生导师们的观点（ ）

- A. 该校的研究生素质高，即使学校不做规定，大部分研究生也会想方设法发表论文
- B. 该校曾有极少数研究生为了学位而肆意抄袭、买卖论文，严重影响学校声誉

- C. 该校许多导师指导多名研究生，需要花费大量时间来修改学生的投稿论文
 D. 该校过去用论文发表要求来代替培养过程监督，导致学生难以沉下心来研究学问

材料：一条新开通的南北向高速公路，中间有 6 条隧道：长川隧道、大美隧道、青山隧道、绿水隧道、彩石隧道、白玉隧道。已知：

- (1) 白玉隧道在彩石隧道的北边并与之相邻，在大美隧道的南边但与之不相邻；
 (2) 长川隧道与青山隧道之间隔一条隧道。

89. 根据上述信息，以下哪项是不可能的（ ）
- A. 长川隧道在最南边
 B. 绿水隧道在最北边
 C. 彩石隧道与青山隧道隔一条隧道
 D. 白玉隧道与大美隧道隔一条隧道
90. 如果绿水隧道与白玉隧道相邻，则以下哪项一定为真（ ）
- A. 彩石隧道处于由南向北的第二位
 B. 大美隧道处于由北向南的第二位
 C. 长川隧道处于由北向南的第三位
 D. 青山隧道处于由南向北的第三位

四、定义判断

91. 逆化用：指根据表达需要，将他人的语句化解后重新组合融入自己的作品中，所表达的意思与原意相反。

下列属于逆化用的是（ ）

- A. 原句：失之东隅，收之桑榆
 化用：东隅已逝，桑榆非晚
- B. 原句：无边落木萧萧下，不尽长江滚滚来
 化用：千古兴亡多少事，悠悠，不尽长江滚滚流
- C. 原句：归师勿遏，围师必阙，穷寇勿追
 化用：宜将剩勇追穷寇，不可沽名学霸王
- D. 原句：国破山河在，城春草木深
 化用：无限山河泪，谁言天地宽

92. 超极化：指先列举一种比较极端的情况，然后再列出更为极端的情况，从而达到层层推进效果的表达手法。

下列不属于超极化的是（ ）

- A. 扶桑已在渺茫中，家在扶桑东更东
- B. 洞天有路不知处，绝顶异香难更闻
- C. 怕说万山天样远，房陵更在万山西
- D. 平芜尽处是春山，行人更在春山外